

## Compléments sur les complexes : Solutions

1. Soit  $f(z) = (1 - i)z + 1 + i$ . Déterminer  $f(-1)$ ,  $f(i)$  et  $f(1 + 2i)$  algébriquement et graphiquement. Déterminer le point fixe de la transformation.

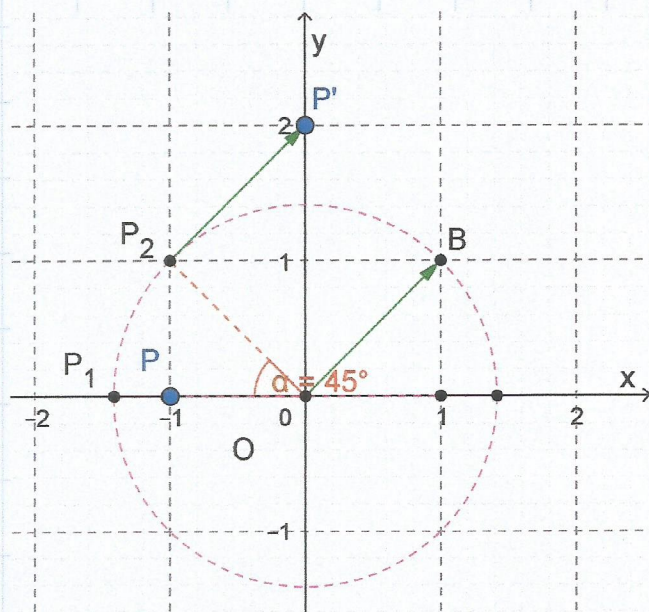
$$f(-1) = (1 - i)(-1) + 1 + i = 2i$$

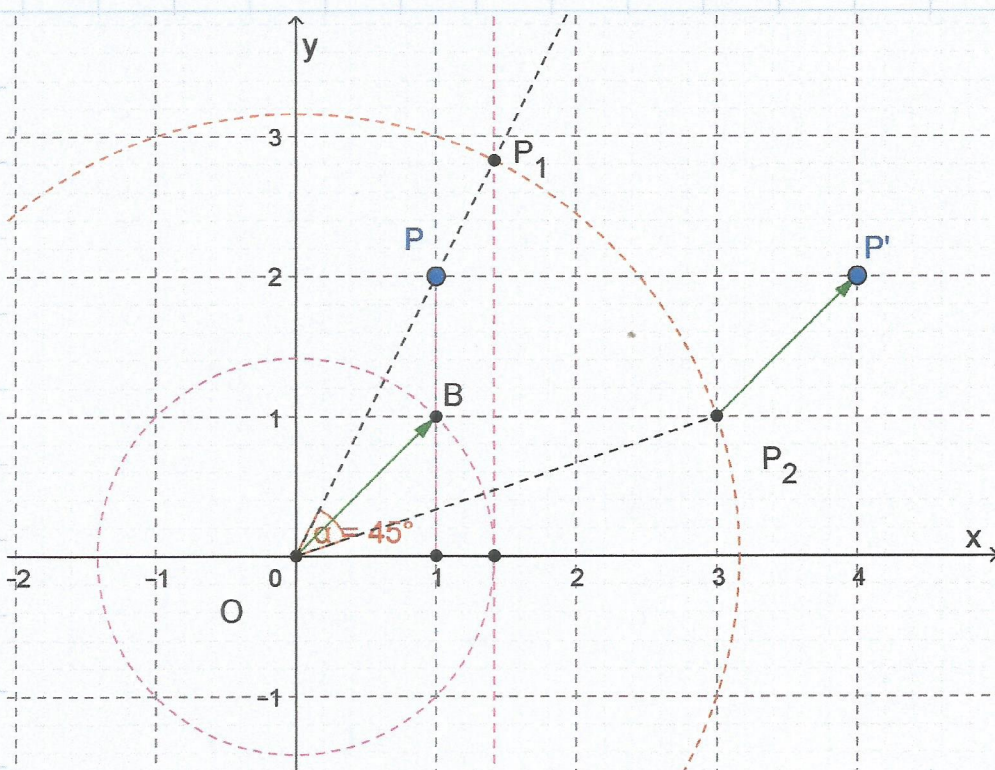
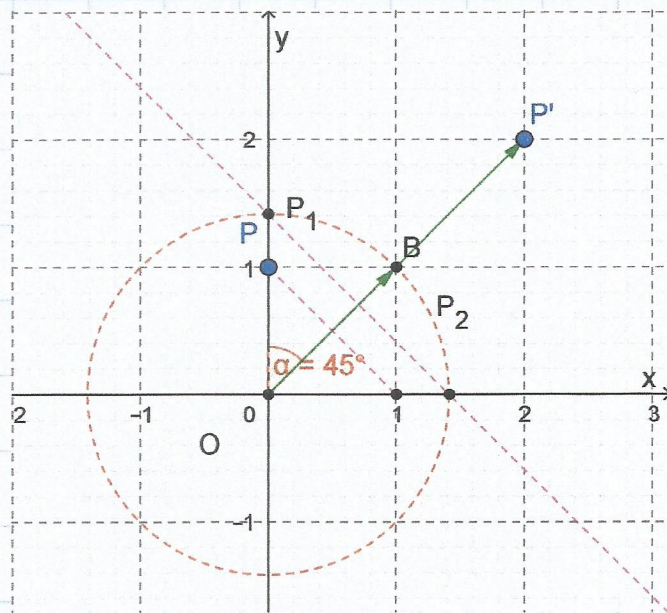
$$f(i) = (1 - i)i + 1 + i = 2i + 2$$

$$\begin{aligned} f(1 + 2i) &= (1 - i)(1 + 2i) + 1 + i \\ &= 3 + i + 1 - i = 4 + 2i \end{aligned}$$

Écrivons  $1 - i$  sous forme trigonométrique. On a  
 $1 - i = \sqrt{2} \operatorname{cis}\left(-\frac{\pi}{4}\right)$

$f(z)$  correspond à une homothétie de centre  $O$  et de rapport  $\sqrt{2}$  ( $P_1$ ) suivie d'une rotation de centre  $O$  et d'angle  $-\frac{\pi}{4}$  ( $P_2$ ) suivie d'une translation de vecteur  $\vec{OB}$  ( $P'$ )

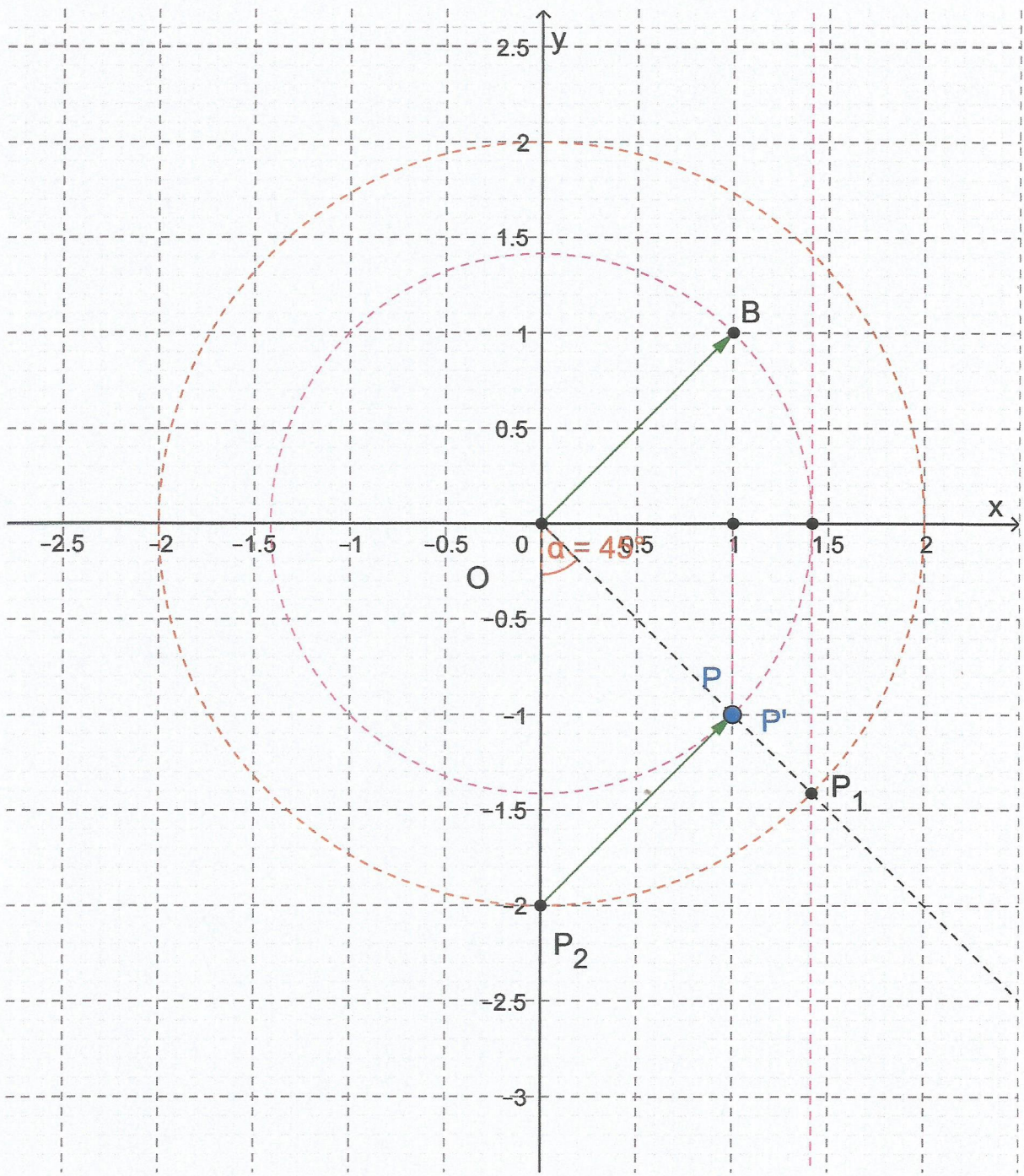




Point fixe:  $f(z) = z \Leftrightarrow z = (1-i)z + 1+i$

$\Leftrightarrow (1 - 1 + i)z = 1 + i \Leftrightarrow z = \frac{1+i}{i} \cdot \frac{-i}{-i}$

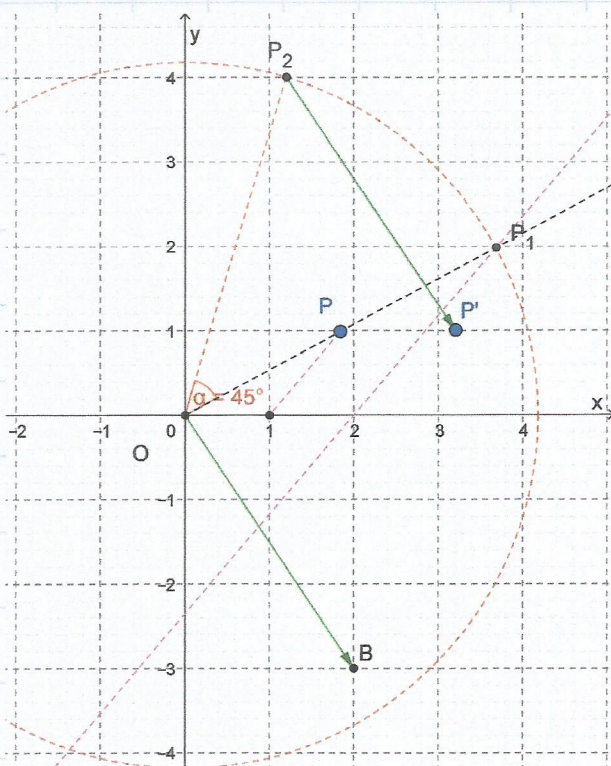
$\Leftrightarrow z = 1 - i$



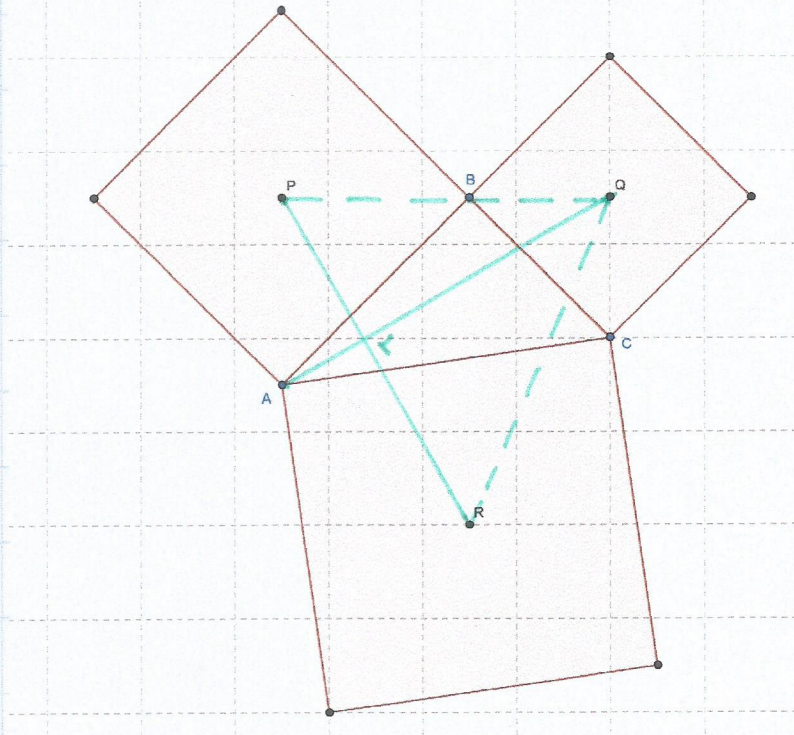
2. Soit  $f_1(z) = \frac{z\sqrt{2}}{1-i}$  et  $f_2(z) = 2z + 2 - 3i$ . Déterminer algébriquement et graphiquement  $f_2 \circ f_1(z)$ .

$$\begin{aligned} f_2 \circ f_1(z) &= 2 \left( \frac{\sqrt{2} z}{1-i} \right) + 2 - 3i \\ &= 2\sqrt{2} z \cdot \frac{1+i}{2} + 2 - 3i \\ &= \sqrt{2}(1+i) z + 2 - 3i \\ &= 2 \operatorname{cis} \frac{\pi}{4} z + 2 - 3i \end{aligned}$$

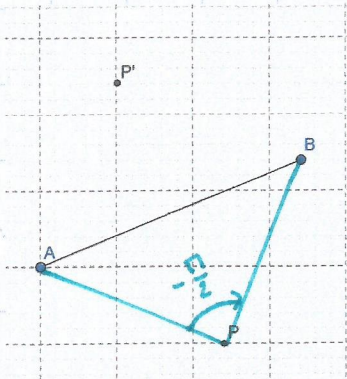
$f_2 \circ f_1(z)$  correspond à une homothétie de centre  $O$  et de rapport 2 ( $P_2$ ) suivie d'une rotation de centre  $O$  et d'angle  $\frac{\pi}{4}$  ( $P_1$ ) suivie d'une translation de vecteur  $\vec{OB} \begin{pmatrix} 2 \\ -3 \end{pmatrix}$  ( $P'$ )



3. À l'extérieur d'un triangle  $ABC$ , on construit trois carrés, de centres  $P$ ,  $Q$  et  $R$  sur les trois côtés du triangle ( $P$  est le centre du carré construit sur  $[AB]$ , ...).  
Les droites joignant les centres des carrés aux sommets opposés des triangles sont concourantes : leur point d'intersection s'appelle le point de Vecten du triangle.



- (a) Soient  $A$  et  $B$  deux points du plan, d'affixes respectives  $a$  et  $b$ . Donner les affixes  $p$  et  $p'$  des centres  $P$  et  $P'$  des deux carrés de côté  $[AB]$ .



Pour  $P$ ,  $B$  est l'image de  $A$  par une rotation de centre  $P$  et d'angle  $-\frac{\pi}{2}$   
Avec les notations données dans le cours de maths :

$$b = -i(a - p) + p$$

$$\Leftrightarrow b + ia = (i+1)p \Leftrightarrow p = \frac{b+ia}{i+1} \cdot \frac{i-1}{i-1}$$

$$\Leftrightarrow p = +\frac{1}{2} [a+b + i(-b+a)]$$

$$\Leftrightarrow p = \frac{(a+b) + i(a-b)}{2}$$

De même  $p' = \frac{(a+b) + i(b-a)}{2}$  (l'angle de rotation  $\frac{\pi}{2}$ )

(b) Revenons au triangle  $ABC$ .

i. Donner les affixes  $p, q$  et  $r$  des points  $P, Q$  et  $R$  en fonction des affixes  $a, b$  et  $c$  des points  $A, B$  et  $C$ .

D'après la figure de la page suivante et les résultats du (a), on a

$$p = \frac{(a+b) + i(b-a)}{2}$$

$$q = \frac{(b+c) + i(c-b)}{2}$$

$$r = \frac{(a+c) + i(a-c)}{2}$$

ii. Montrer que les triangles  $ABC$  et  $PQR$  ont même centre de gravité.

Le centre de gravité de  $ABC$  a pour affixe  

$$\frac{a+b+c}{3}$$

et celui de  $PQR$

$$\frac{p+q+r}{3} = \frac{\frac{a+b+i(b-a)}{2} + \frac{b+c+i(x-b)}{2} + \dots}{3} + \frac{a+c+i(a-c)}{2}$$

$$= \frac{2a+2b+2c}{6}$$

$$= \frac{a+b+c}{3}$$

iii. Démontrer que  $|PR| = |AQ|$  et que les droites  $PR$  et  $AQ$  sont perpendiculaires.

$$PR = r - p = \frac{a+c+i(a-c)}{2} - \frac{(a+b)+i(b-a)}{2}$$

$$= \frac{1}{2} [(c-b) + i(2a-b-c)]$$

$$\text{et } AQ = q - a = \frac{b+c+i(c-b)}{2} - a$$

$$= \frac{1}{2} [(-2a+b+c) + i(c-b)]$$

$$= \frac{1}{2} (-i) [(c-b) + i(2a-b-c)]$$

$|PR| = |AQ|$  car les parties réelles et imaginaires sont identiques. De plus  $PR \perp AQ$  puisque

$$AQ = -i PR \quad (-i = \text{rot d'angle } -\frac{\pi}{2})$$

iv. Démontrer que les droites  $AQ$ ,  $BR$  et  $CP$  sont concourantes.

Dans le  $\triangle PQR$ ,  $AQ \perp PR \Rightarrow AQ$  est une hauteur.

Il en est de même pour  $CP$  et  $BR$ .

Dans un  $\triangle$ , les 3 hauteurs sont toujours concourantes.