



Athénée Royal d'Uccle 1

**Cours de
Mathématique
5^{ème} année
RÉVISION DE JUIN**

EXERCICES À FAIRE

Juin 2023

1. Analyse

✓ 1
✓ 2
✓ 3
✗ 4
✓ 5

✓ 6
✓ 7
✗ 8
✗ 9
✓ 10

✓ 11
✗ 12
✗ 13
✗ 14

2. Trigonométrie

✓ 1

✗ 2

3. Géométrie

✗ 1
✗ 2

✗ 3
✗ 4

✗ 5
✗ 6

4. Suites

✓ 1
✓ 2

✓ 3
✓ 4

✓ 5
✓ 6

1.1 Exercices

- On donne la fonction $f(x) = \frac{ax^2 + bx + 3}{x^2 + c}$ où a, b et $c \in \mathbb{R}$
 - Déterminer a, b et c pour que la fonction admette les droites $y = 2$ et $x = 1$ pour asymptotes et sachant que la tangente au point d'intersection du graphique de $f(x)$ avec l'axe Oy a pour équation $-4x + y + 3 = 0$
 - Etudier la variation de la fonction $f(x) = \frac{2x^2 - 4x + 3}{x^2 - 1}$
- Ecrire l'équation de la tangente au graphique de $f(x) = \sqrt[3]{x^2 - 3x} - x$ en le point d'abscisse $\frac{3}{2}$.
- On donne la fonction $f(x) = \sqrt{\frac{x}{1-x}}$
 - Déterminer le domaine et les zéros de $f(x)$.
 - Ecrire l'équation des asymptotes de $f(x)$.
 - Calculer la dérivée première de $f(x)$ et justifier que $f(x)$ est toujours croissante.
Préciser clairement ce qui se passe en $x = 0$.
 - Calculer le coefficient angulaire de la tangente au point d'inflexion de la courbe. La dérivée seconde de $f(x)$ s'écrit :

$$f''(x) = \frac{(4x-1)\sqrt{\frac{x}{1-x}}}{4x^2(1-x)^2}$$

- On donne la fonction $f(x)$ définie par :

$$f(x) = \begin{cases} a\frac{x^3+8}{x+2} & \text{si } x < -2 \\ \frac{\sqrt{x+6}-2}{\sqrt{(2x+20)a^2-4a}} & \text{si } x \geq -2 \end{cases}$$

Pour quelle(s) valeur(s) de a la fonction est-elle continue ?

5. Soit

$$f(x) = \frac{(1-x)^3}{x^2}$$

et \mathcal{C} sa courbe représentative

- Trouver a, b, c, d tels que $f(x) = ax + b + \frac{cx + d}{x^2}$ pour tout x réel non nul.
- Etudier les variations de f .
- Déterminer une équation de la tangente t à \mathcal{C} au point d'abscisse $\frac{1}{2}$
- Peut-on trouver un point de \mathcal{C} où la tangente à \mathcal{C} soit parallèle à la droite $d \equiv y = -x$? Si oui, préciser l'équation de cette tangente t' .
- Montrer que \mathcal{C} a une asymptote oblique d' . Préciser leurs positions respectives.

6. Soit la fonction f , définie sur $\mathbb{R} \setminus \{-1, 1\}$ par $f(x) = \frac{x^3 + 2x^2}{x^2 - 1}$ et \mathcal{C} sa courbe représentative dans le plan muni d'un repère orthonormal (O, \vec{i}, \vec{j}) (unité : 2 cm)

(a) *Etude d'une fonction auxiliaire.*

Soit g définie sur \mathbb{R} par $g(x) = x^3 - 3x - 4$

- Etudier les variations de la fonction g , et calculer ses limites en $+\infty$ et $-\infty$.
- Montrer qu'il existe un réel a unique tel que $g(a) = 0$. Montrer que $2, 1 < a < 2, 2$.
- Etudier le signe de g sur \mathbb{R} .

(b) *Etude de la fonction f .*

- Déterminer les limites de la fonction f aux bornes de son ensemble de définition.
- Montrer que pour tout x de $\mathbb{R} \setminus \{-1, 1\}$, $f'(x) = \frac{x \cdot g(x)}{(x^2 - 1)^2}$. En déduire le tableau de variation de f .
- Montrer que pour tout x de $\mathbb{R} \setminus \{-1, 1\}$, $f(x) = x + 2 + \frac{x + 2}{x^2 - 1}$. En déduire que \mathcal{C} admet une asymptote oblique d . Etudier la position de \mathcal{C} par rapport à d .
- Déterminer les abscisses des points de \mathcal{C} où la tangente est parallèle à la droite d'équation $y = x + 2$.

7. En utilisant la définition du nombre dérivé, écrire l'équation de la tangente au graphe de la fonction $f(x) = \sqrt[3]{x}$ au point d'ordonnée 1.

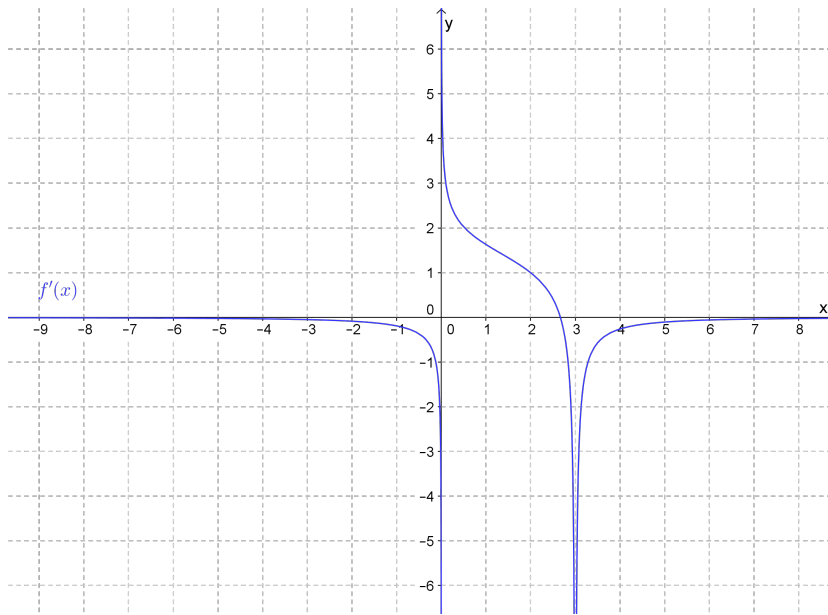
Même question avec la fonction $f(x) = \sqrt{x^2 - 1}$ au point d'ordonnée $\frac{1}{2}$ et d'abscisse positive.

8. Trois côtés d'un trapèze ont 10 cm de longueur. Quelle doit être la longueur du quatrième côté pour que l'aire du trapèze soit maximale ?

9. On considère le cube $ABCDEFGH$ d'arête 6 cm. On inscrit dans ce cube, le parallélépipède rectangle $EIJKLPNM$ tel que $EI = IJ = x$ et $AL = x$ ($I \in EF$ et $L \in AE$).

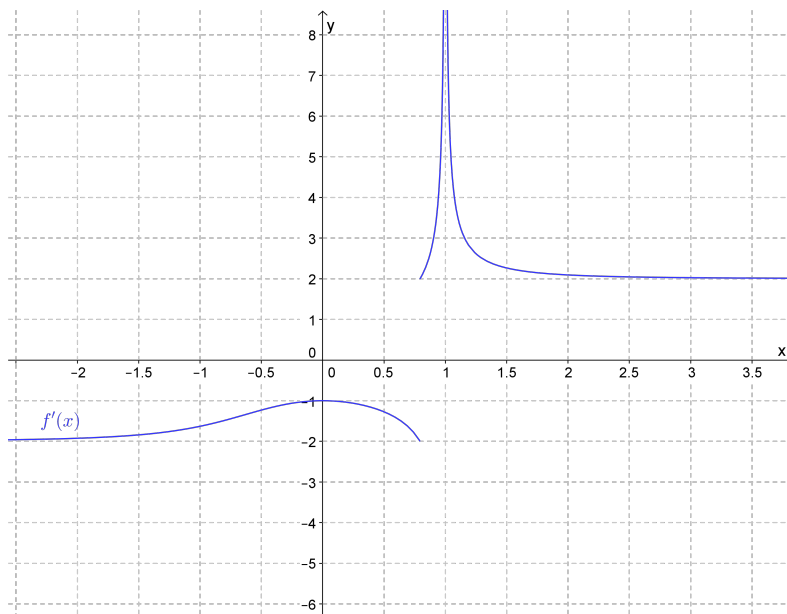
On veut déterminer la valeur x pour laquelle le parallélépipède rectangle est de volume maximum.

- Calculer le volume V du parallélépipède.
 - Trouver alors la valeur x et le volume maximum correspondant.
 - Déterminer, à l'aide de la calculatrice, les valeurs de x pour lesquelles le parallélépipède a pour volume 0,025 litres.
10. On donne la fonction $f(x) = x - \sqrt[3]{x^3 - 3x^2}$ et le graphe de sa dérivée.



- Déterminer l'équation des asymptotes de $f(x)$
- Uniquement sur base de ce graphe (*sans calculer* aucune dérivée) et de la forme analytique de la fonction, établir le tableau récapitulatif du comportement de $f(x)$ et esquisser le graphe de $f(x)$.

11. On donne la fonction $f(x) = \left| \sqrt[3]{x^3 - 1} + x \right|$ et le graphe de sa dérivée.



Uniquement sur base de ce graphe (*sans calculer* aucune dérivée) et de la forme analytique de la fonction, établir le tableau récapitulatif du comportement de $f(x)$ et esquisser le graphe de $f(x)$.

12. Calculer

(a) $\lim_{x \rightarrow 0} \frac{x^2}{1 - \cos 2x}$

(b) $\lim_{x \rightarrow 0} \frac{\cos x - \sqrt{\cos 2x}}{\sin^2 x}$

13. Ecrire l'équation de la tangente à la courbe d'équation $y = \frac{\cos x}{\sin 3x} + \cot x$ au point d'abscisse $\frac{5\pi}{6}$

14. Faire l'étude complète de $f(x) = \cos x + \cos 2x$

1.2 Solutions

1. (a) $a = 2, b = -4$ et $c = -1$

(b) $f'(x) = \frac{2(2x^2 - 5x + 2)}{(x^2 - 1)^2}$.

Tableau de variations :

x	-1		$\frac{1}{2}$	1		2	
$N(x)$	+	+	0	-	-	0	+
$D(x)$	+	0		+	0	+	+
$f'(x)$	+	\neq	0	-	\neq	0	+
	\nearrow		M	\searrow		m	\nearrow
			$(\frac{1}{2}, -2)$			$(2, 1)$	

2. $t \equiv y = -x - \sqrt[3]{\frac{9}{4}}$

3. (a) $dom_f : [0, 1[$ et zéro : $x = 0$;

(b) $AV \equiv x = 1$

(c) $f'(x) = \frac{\sqrt{\frac{x}{1-x}}}{2x(1-x)}$.

Sur dom_f $f'(x)$ est toujours positive et donc $f(x)$ toujours croissante.
 $\lim_{x \rightarrow 0} f'(x) = +\infty$. On a donc une tangente verticale.

(d) $f''(x) = 0 \Leftrightarrow x = \frac{1}{4}$ et $f'(\frac{1}{4}) = \frac{8\sqrt{3}}{9}$

4. $a = \pm \frac{\sqrt{3}}{6}$

5. (a) $a = -1, b = 3, c = -3$ et $d = 1$;

(b) $f'(x) = -\frac{x^3 - 3x + 2}{x^3}$.

Tableau de variations :

x	-2		0	1	
-1	-		-	-	-
$(x+2)$	-	0	+	+	+
$(x-1)^2$	+		+	+	0
$D(x)$	-		-	0	+
$f'(x)$	-	0	+	\neq	0
	\searrow	m	\nearrow	\searrow	T.H.
		$(-2, \frac{27}{4})$			

(c) $t \equiv y = -5x + 3$

(d) $x = \frac{2}{3}$ et $t \equiv y = \frac{3-4x}{4}$

(e) A.O. $\equiv y = 3 - x$, $d(x) = \frac{1 - 3x}{x^2}$. La fonction est située au dessus de l'A.O. si $x \leq \frac{1}{3}$.

6. (a) i. $g'(x) = 3x^2 - 3$ et $\lim_{x \rightarrow \pm\infty} g(x) = \pm\infty$;

Tableau de variations :

x		-1		1	
$x^2 - 1$	+	0	-	0	+
$f'(x)$	+	0	-	0	+
	\nearrow	M	\searrow	m	\nearrow
		(-1,-2)		(1,-6)	

ii. En raison des limites de $g(x)$ et $\pm\infty$, du tableau de variations et notamment les valeurs des ordonnées des extremums, on peut dire grâce au théorème des valeurs intermédiaires que $g(x)$ s'annule une seule fois. $g(2,1) \approx -1,039$ et $g(2,2) \approx 0.048$.

iii. $\frac{x}{g(x)} \mid \begin{array}{c} a \\ - \quad 0 \quad + \end{array}$

(b) i. $\lim_{x \rightarrow \pm\infty} f(x) = \pm\infty$ et $\lim_{x \rightarrow \pm 1} f(x) = \pm\infty$

ii. $f'(x) = \frac{x(x^3 - 3x - 4)}{(x^2 - 1)^2}$.

Tableau de variations :

x		-1		0		1		a	
x	-	-	0	+	+	+	+	+	+
$g(x)$	-	-		-	-	0	+	0	+
$(x^2 - 1)^2$	+	0	+	+	0	+	0	0	+
$f'(x)$	+	\nexists	+	0	-	\nexists	-	0	+
	\nearrow		\nearrow	M	\searrow		\searrow	m	\nearrow
				(0,0)				(a, f(a))	

iii. Il suffit de simplifier la nouvelle expression donnée. Comme, en $\pm\infty$ le terme $\frac{x+2}{x^2-1}$ tend vers zéro, la fonction tend vers $c+2$ en $\pm\infty$ qui est donc une asymptote oblique de la fonction.

$d(x) = \frac{x+2}{x^2-1}$ dont le signe est :

x		-2		-1		1	
$x+2$	-	0	+	+	+	+	
x^2-1	+	+	0	-	0	+	
$d(x)$	-	0	+	\nexists	-	0	+

La fonction est sous l'A.O. en $-\infty$ et au dessus en $+\infty$.

iv. Il faut résoudre l'équation $f'(x) = 1$ dont les solutions sont $x = -2 \pm \sqrt{3}$.

7. $f'(1) = \frac{1}{3}$ et $t \equiv y = \frac{x+2}{3}$

8. La base a une longueur de 20 cm.

9. (a) $V = x^2(6 - x)$

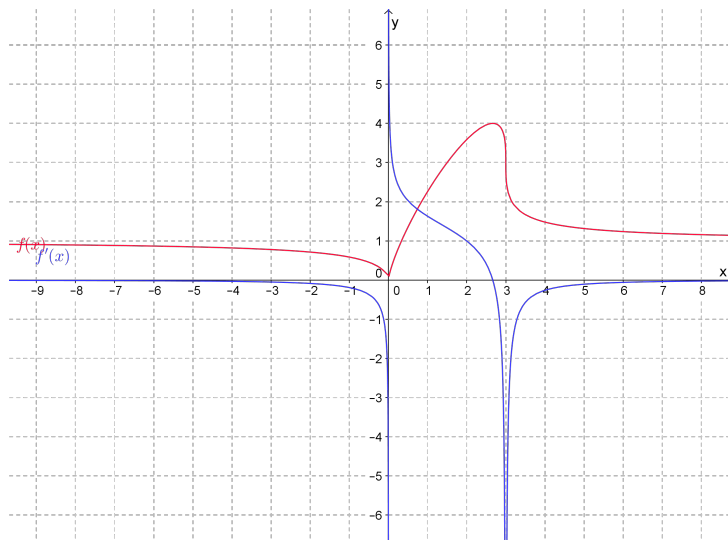
(b) $x = 4$

(c) $x = 5$ et $x = \frac{1 + \sqrt{21}}{2}$

10. (a) $AH \equiv y = 1$

(b) Le tableau récapitulatif est le suivant :

x	0	2,6	3				
$f'(x)$	-	\neq	+	0	-	\neq	-
$f''(x)$	-	\neq	-	-	-	\neq	+
$f(x)$	\searrow \cap	P.R. (0,0)	\nearrow \cap	M $\approx (2,6;4)$	\searrow \cap	T.V. (3,3)	\searrow \cup



11. Le tableau récapitulatif est le suivant :

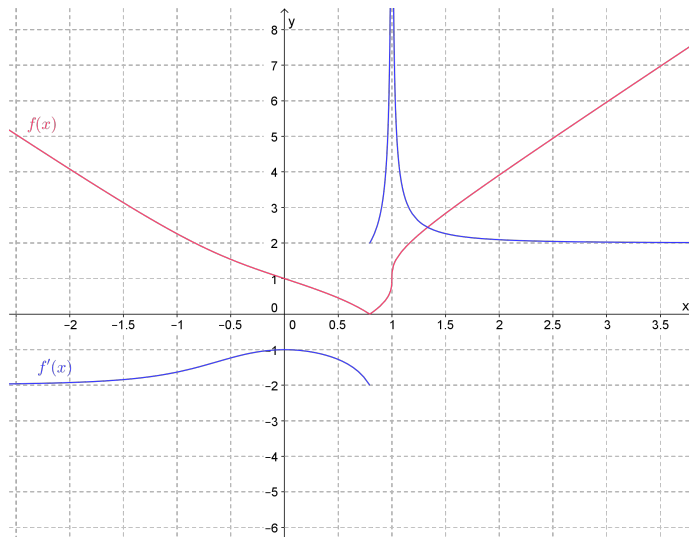
x	0	0,7	1				
$f'(x)$	-	-	+	\neq	+		
$f''(x)$	+	0	-	+	\neq	-	
$f(x)$	\searrow \cup	PI (0,1)	\searrow \cap	PA (0,7;0)	\nearrow \cup	TV (1,1)	\nearrow \cap

12. Calculer

(a) $\lim_{x \rightarrow 0} \frac{x^2}{1 - \cos 2x} = \frac{1}{2}$

(b) $\lim_{x \rightarrow 0} \frac{\cos x - \sqrt{\cos 2x}}{\sin^2 x} = \frac{1}{2}$

13. $t \equiv y = -\frac{9x}{2} + 15\frac{\pi}{4} - 3\frac{\sqrt{3}}{2}$



14. $dom_f : \mathbb{R}$, période : 2π , fonction paire, intervalle d'étude $[0, \pi]$;
zéros : $x = \frac{\pi}{3}$ et $x = \pi$;
 $f'(x) = -2 \sin 2x - \sin x$

x	0	1,82	π
$-\sin x$	0	-	0
$4 \cos x + 1$		+	-
$f'(x)$	0	0	0
	M	m	M
	(0,2)	(1,82;-1,125)	(π ,0)

2.1 Exercices

1. Résoudre les équations suivantes sur l'intervalle $[0, 2\pi[$:

(a) $2 \sin \left(\frac{\pi}{6} - 2x \right) = \sqrt{3}$

(b) $3 \tan \left(3x - \frac{\pi}{4} \right) = -\sqrt{3}$

(c) $\sin 3x = \cos \left(\frac{\pi}{3} - x \right)$

(d) $\sin 4x + \sin x = 0$

(e) $\sin \left(3x + \frac{\pi}{6} \right) - \cos \left(x - \frac{\pi}{3} \right) = 0$

(f) $2 \cos^2 x - 1 = 0$

(g) $3 \tan \theta = 2 \cos \theta$

(h) $\sin \theta + \sin 2\theta + \sin 3\theta + \sin 4\theta = 0$

(i) $\tan 4\theta = 4 \tan \theta$

(j) $2 \sin z + 3 \cos z = 1$

2. Résoudre les inéquations suivantes sur l'intervalle $[0, 2\pi[$ (sauf pour l'exercices [2g](#)) :

(a) $\frac{\cos 2x}{1 - 2 \sin 2x} < 0$

(b) $\sin^2 x + \sin x > 0$

(c) $\cos^2 x - \sin x > 0$

(d) $3 \cos x + 2 \sin x \leq 1$

(e) $3 \sin x + 2 > 2 \sin^2 x$

(f) $\sqrt{3} \tan^2 x - 4 \tan x + \sqrt{3} < 0$

(g) $2 \cos^2 \frac{x}{2} - \cos \frac{x}{2} - 1 > 0$

(h) $2 \cos^2 x - \sqrt{3} \sin x - 2 < 0$

2.2 Solutions

1. (a) $S : \left\{ -\frac{\pi}{4}, -\frac{\pi}{12}, \frac{3\pi}{4}, \frac{11\pi}{12} \right\}$
 - (b) $S : \left\{ -\frac{35\pi}{36}, -\frac{23\pi}{36}, -\frac{11\pi}{36}, \frac{\pi}{36}, \frac{13\pi}{36}, \frac{25\pi}{36} \right\}$
 - (c) $S : \left\{ -\frac{11\pi}{12}, -\frac{19\pi}{24}, -\frac{7\pi}{24}, \frac{\pi}{12}, \frac{5\pi}{24}, \frac{17\pi}{24} \right\}$
 - (d) $S : \left\{ -\frac{4\pi}{5}, -\frac{2\pi}{5}, -\frac{\pi}{3}, 0, \frac{\pi}{3}, \frac{2\pi}{5}, \frac{4\pi}{5}, \pi \right\}$
 - (e) $S : \left\{ -\frac{2\pi}{3}, -\frac{\pi}{2}, 0, \frac{\pi}{3}, \frac{\pi}{2}, \pi \right\}$
 - (f) $S : \left\{ -\frac{3\pi}{4}, -\frac{\pi}{4}, \frac{\pi}{4}, \frac{3\pi}{4} \right\}$
 - (g) $S : \left\{ \frac{\pi}{6}, \frac{5\pi}{6} \right\}$
 - (h) $S : \left\{ -\frac{\pi}{2}, \frac{\pi}{2}, \pi \right\}$
 - (i) $S : \{-1, 99; -1, 15; 1, 15; 1, 99\}$
 - (j) $S : \{-12, 7; 1, 88\}$
2. (a) $x \in \left] \frac{\pi}{12}, \frac{\pi}{4} \right[\cup \left] \frac{5\pi}{12}, \frac{3\pi}{4} \right[\cup \left] \frac{13\pi}{12}, \frac{5\pi}{4} \right[\cup \left] \frac{17\pi}{12}, \frac{7\pi}{4} \right[$
 - (b) $x \in]0, \pi[\setminus \left\{ \frac{\pi}{2} \right\}$
 - (c) $x \in]0; 0,666[\cup]2,475; 2\pi]$
 - (d) $x \in [1,878; 5,581]$
 - (e) $x \in \left[0, \frac{7\pi}{6} \right[\cup \left[\frac{11\pi}{6}, 2\pi \right[$
 - (f) $x \in \left] \frac{\pi}{6}, \frac{\pi}{3} \right[\cup \left] \frac{7\pi}{6}, \frac{4\pi}{3} \right[$
 - (g) $x \in \left[0, \frac{4\pi}{3} \right[\cup \left[\frac{8\pi}{3}, 2\pi \right[+ 4k\pi$
 - (h) $x \in]0, \pi[\cup \left] \frac{4\pi}{3}, \frac{5\pi}{3} \right[$

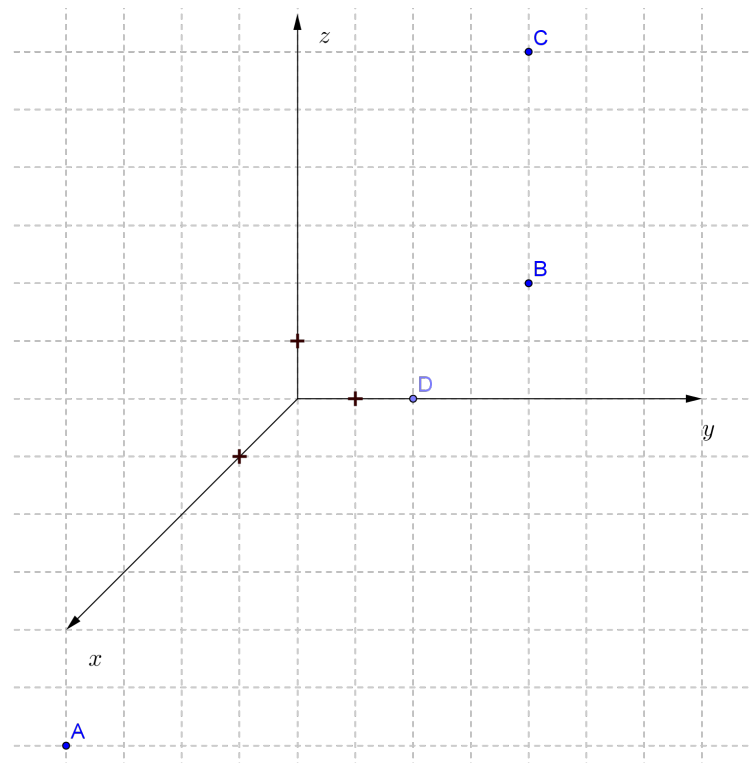
3.1 Exercices

Soit les points $A(3, -1, -3)$, $B(0, 4, 2)$, $C(-3, 1, 3)$ et $D(-2, 0, -2)$

1. Placer ces points dans le repère donné
2. Calculer les composantes du vecteur $\overrightarrow{AB} + 2\overrightarrow{CB}$
3. Déterminer les coordonnées de G sachant que $2\overrightarrow{BG} - \overrightarrow{AC} = \overrightarrow{DB} + 3\overrightarrow{CG}$
4. Déterminer les coordonnées de E tel que $AECD$ soit un parallélogramme.
5. Déterminer une valeur de k pour que le vecteur $(k, 2k - 1, 3)$ soit orthogonal au vecteur \overrightarrow{DA}
6. Déterminer la valeur de l'angle \widehat{ABC} .

3.2 Solutions

1.



2. $\vec{AB} + 2\vec{CB} : (3, 11, 3)$

3. $G : (-5, -11, -5)$

4. $E(2, 0, 2)$

5. $k = \frac{2}{3}$

6. $\widehat{ABC} \approx 1.54(88^\circ)$.

4.1 Exercices

1. On considère les suites (a_n) et (b_n) définies pour tout $n \in \mathbb{N}_0$ par

$$a_n = \frac{-2}{n+1} + 1$$

et

$$\begin{cases} b_1 = 1 \\ b_{n+1} = -b_n^2 + b_n - 1 \end{cases}$$

Etudier le sens de variation des suites.

2. Soit la suite (a_n) définie par $a_n = 7 - 3n$ ($n \in \mathbb{N}_0$)
- Calculer a_1 , a_2 et a_3
 - Démontrer que (a_n) est une suite arithmétique et déterminer la raison de la suite ?
 - Quelle est la valeur du 51ème terme ?
 - Calculer la somme des 51 premiers termes ?
3. Soit la suite arithmétique (a_n) de raison r dont on connaît 2 termes $a_{100} = 90$ et $a_{1000} = 900$.
- Calculer la raison r et a_1 .
 - Calculer la somme de a_{100} à a_{1000} .
4. Soit (a_n) la suite arithmétique dont le 7ème terme vaut 74, le n ème 226 et la somme des n premiers termes 2794,5. Déterminer le nombre de termes de cette suite.
5. Calculer la valeur exacte de la somme suivante :

$$S = 1 - 2 + 4 - 8 + 16 - 32 + \dots + 4096$$

6. La population actuelle augmente de 1% par an. En 2010, elle était de 6,9 milliards. On note a_n la population mondiale l'année $2010 + (n - 1)$.
- (a) Expliquer pourquoi la suite (a_n) est géométrique. Préciser son premier terme a_1 et sa raison.
 - (b) Exprimer (a_n) en fonction de n .
 - (c) En supposant que le taux d'accroissement se maintienne, estimer la population mondiale en 2025.
 - (d) A l'aide de la calculatrice, estimer en quelle année les 9 milliards d'habitants seront atteints.

4.2 Solutions

1. On considère les suites (a_n) est croissante et (b_n) est décroissante.
2. (a) $a_1 = 4, a_2 = 1$ et $a_3 = -1$
(b) $r = -3$
(c) $a_{51} = -146$
(d) $S_{51} = -3621$
3. (a) $r = \frac{9}{10}$ et $a_1 = 0,9$
(b) Somme de a_{100} à a_{1000} : 445223,2.
4. $n = 23$
5. $S = 2731$
6. (a) $a_1 = 6,9$ et $q = 1,01$
(b) $a_n = 6,9 \cdot (1,01)^{n-1}$
(c) $a_{16} = 8,01$
(d) $n = 28$

