



Athénée Royal d'Uccle 1

Cours de Mathématique 4^{ème} année RÉVISION DE JUIN

EXERCICES À FAIRE

Juin 2023

1. Analyse

✓ 1
✓ 2
✓ 3
✓ 4
✓ 5

✓ 6
✗ 7
✓ 8
✗ 9
✗ 10

✓ 11
✓ 12
✗ 13
✓ 14

2. Trigonométrie

✓ 1
✓ 2

✓ 3
✗ 4

✗ 5
✗ 6

3. Géométrie

✗ 1
✗ 2
✗ 3

✗ 4
✓ 5
✓ 6

✓ 7
✓ 8
✓ 9

1.1 Exercices

1. Construire le graphe des fonctions suivantes en expliquant toutes les transformations utilisées.

(a) $f(x) = |\sqrt{1-2x} - 1|$

(b) $f(x) = \frac{1}{2} \left(\frac{1}{2}x + \frac{1}{3} \right)^2 - 2$

(c) $f(x) = 1 - \frac{2}{1-2x}$

2. (a) Montrer que $2x^2 - 4x - 3 = 2(x-1)^2 - 5$;
(b) En déduire une manière de construire le graphe de $f(x) = 2x^2 - 4x - 3$;
(c) Vérifier algébriquement les valeurs des caractéristiques principales de la parabole.

3. On donne la fonction

$$f(x) = \frac{x-1}{x^2-2x}$$

et son graphe en annexe.

- (a) Déterminer algébriquement le domaine de $f(x)$; interpréter graphiquement les résultats.
(b) Déterminer graphiquement quels sont les réels qui ont 1 pour image par cette fonction. Vérifier algébriquement.
(c) Déterminer par calcul les zéros de $f(x)$ ainsi que l'image de -1; interpréter graphiquement.
(d) Trace le graphe de $|f(x)|$

4. On donne la fonction

$$f(x) = \frac{\sqrt{x^2 - 5x + 4}}{2x^2 - 9x - 5}$$

et son graphe en annexe.

- Déterminer algébriquement le domaine de $f(x)$ interpréter graphiquement les résultats.
- Déterminer graphiquement quels sont les réels qui ont -1 pour image par cette fonction.
- Déterminer par calcul les zéros de $f(x)$ ainsi que l'image de 2 et 6 ; interpréter graphiquement.
- Trace le graphe de $|f(x + 1) + 1|$
- Résoudre graphiquement les inéquations $f(x) > 1$ et $f(x) \leq -2$

5. Soit la fonction

$$f(x) = \frac{2x^3 - 3x^2 - 20x}{3x^2 - 27}$$

et son graphe en annexe.

- Déterminer algébriquement le domaine de la fonction f ; vérifier graphiquement ;
- Déterminer algébriquement et graphiquement les zéros de la fonction f ;
- Déterminer algébriquement l'image de 2 par la fonction f , expliquer comment trouver ce résultat à l'aide du graphe de f ;
- Déterminer graphiquement les antécédents de $\frac{7}{2}$; expliquer la démarche ;
- Etudier, graphiquement et algébriquement, le signe de f ;
- Déduire, sans calcul complémentaire, de 5e le domaine de la fonction

$$g(x) = \sqrt{\frac{2x^3 - 3x^2 - 20x}{3x^2 - 27}}$$

6. Soit la fonction

$$f(x) = \frac{\sqrt{-2x^3 + 9x^2 + 5x}}{8x^2 - 2x - 1}$$

et son graphique en annexe.

- Déterminer algébriquement le domaine ainsi que les zéros de f ; justifier graphiquement, sur l'annexe, les résultats obtenus ;
- Déterminer algébriquement une valeur exacte et une valeur approchée de l'image de -1 par la fonction f ; vérifier graphiquement les résultats ;
- Déterminer graphiquement le(s) antécédent(s) de $\frac{3}{2}$; les indiquer sur le graphique.
- Représenter, sur le graphique de l'annexe, les solutions de

$$\frac{\sqrt{-2x^3 + 9x^2 + 5x}}{8x^2 - 2x - 1} = \sqrt{2x + 3} - 1$$

7. (a) Déterminer k pour que la parabole $\mathcal{P} \equiv y = 2x^2 - 3x + k$ passe par le point $(1,-1)$
- (b) Déterminer k pour que l'ordonnée du sommet de la parabole $\mathcal{P} \equiv y = 2x^2 - 3x + k$ soit $\frac{25}{16}$
- (c) Déterminer b et c pour que $(-2,-4)$ soit le sommet de la parabole $\mathcal{P} \equiv y = x^2 + bx + c$
- (d) Déterminer b et c pour que $(4,0)$ appartienne au graphe et que $d \equiv x = 2$ soit l'axe de symétrie de la parabole $\mathcal{P} \equiv y = x^2 + bx + c$
8. On donne la fonction $f(x) = -x^2 - x + 6$

- (a) Déterminer les caractéristiques de la parabole et la tracer ;
- (b) Résoudre algébriquement l'inéquation $-x^2 - x + 6 > -\frac{1}{2}x + 1$
- (c) tracer dans le même repère que la parabole la droite $d \equiv y = -\frac{1}{2}x + 1$
- (d) interpréter graphiquement les résultats du 8b

9. Déterminer la (les) valeur(s) de m pour que l'équation

$$(m + 3)x^2 + 2(3m + 1)x + m = -3$$

admette deux solutions distinctes

10. Déterminer une condition sur m pour que l'équation

$$x^2 - 2mx + m(m + 1) = 0$$

n'admette aucune solution réelle.

11. Soient les paraboles $\mathcal{P}_1 \equiv y = \frac{x^2}{2} + x - \frac{3}{2}$ et $\mathcal{P}_2 \equiv y = -(x + 1)^2 + 2$
- (a) Construire la parabole \mathcal{P}_1 en déterminant ses caractéristiques ;
- (b) Construire la parabole \mathcal{P}_2 par manipulations de graphe dans le même repère ;
- (c) Déterminer algébriquement et graphiquement les éventuels points d'intersection entre les deux paraboles.
- (d) Déterminer algébriquement et graphiquement les solutions de l'inéquation

$$\frac{x^2}{2} + x - \frac{3}{2} \leq -(x + 1)^2 + 2$$

12. Etudier le signe de $f(x) = \frac{(1 - x)(x^2 - 3x)}{x^2 + 2x - 2}$
13. Soit la parabole d'équation $\mathcal{P} \equiv y = -x^2 - x + 6$. Ecrire l'équation de la tangente à la parabole au point $(1,4)$. Vérifier graphiquement le résultat.
14. Résoudre dans \mathbb{R} :

(a) $\frac{x + 3}{x^2 - 4} - \frac{x}{x - 2} \geq \frac{x - 1}{x + 2}$

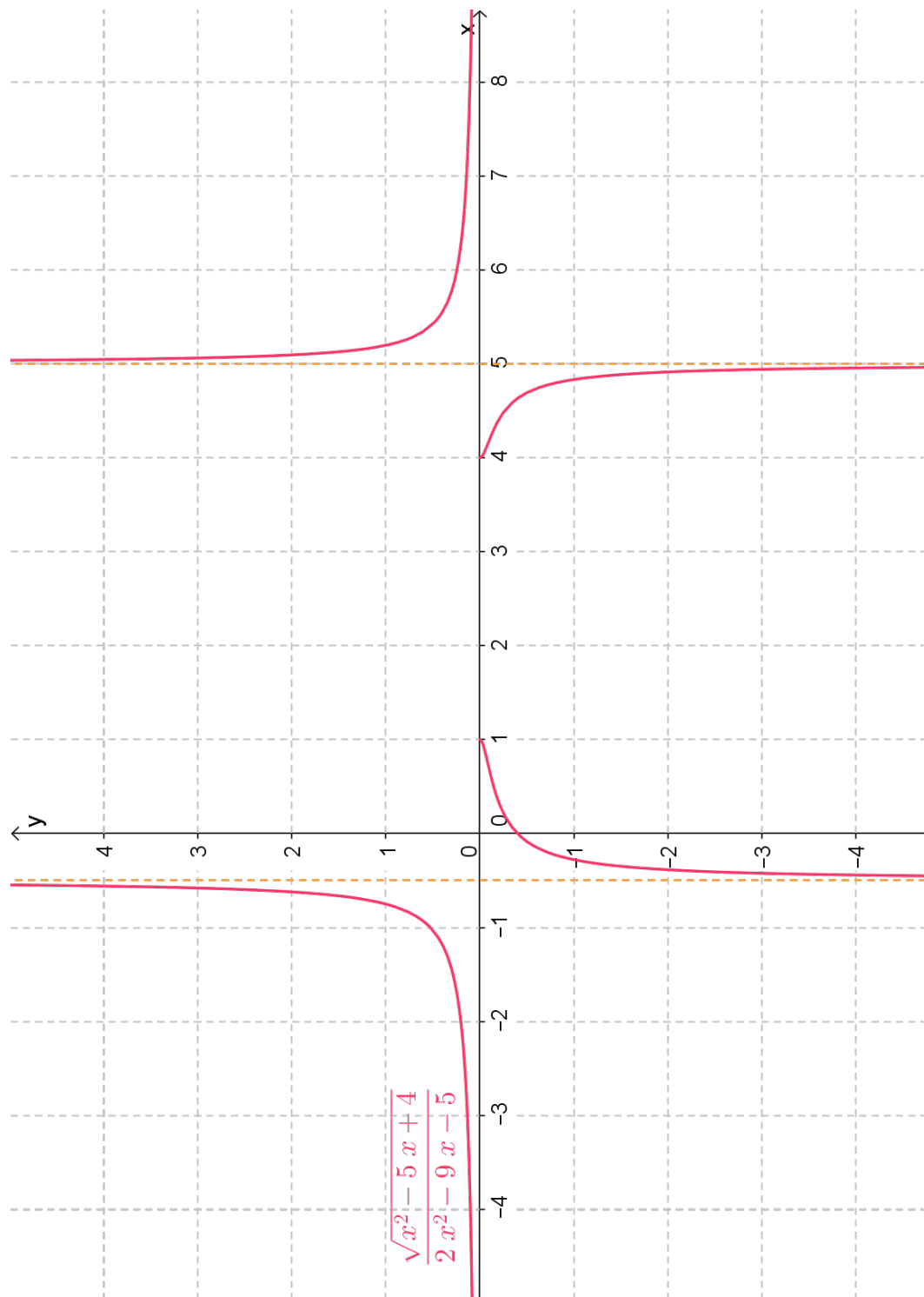
(b) $\frac{2x - 1}{4x - 1} + \frac{2}{x + 2} > 2$

(c) $\frac{2x^2 + x - 5}{x^2 - 3x - 4} < 1$

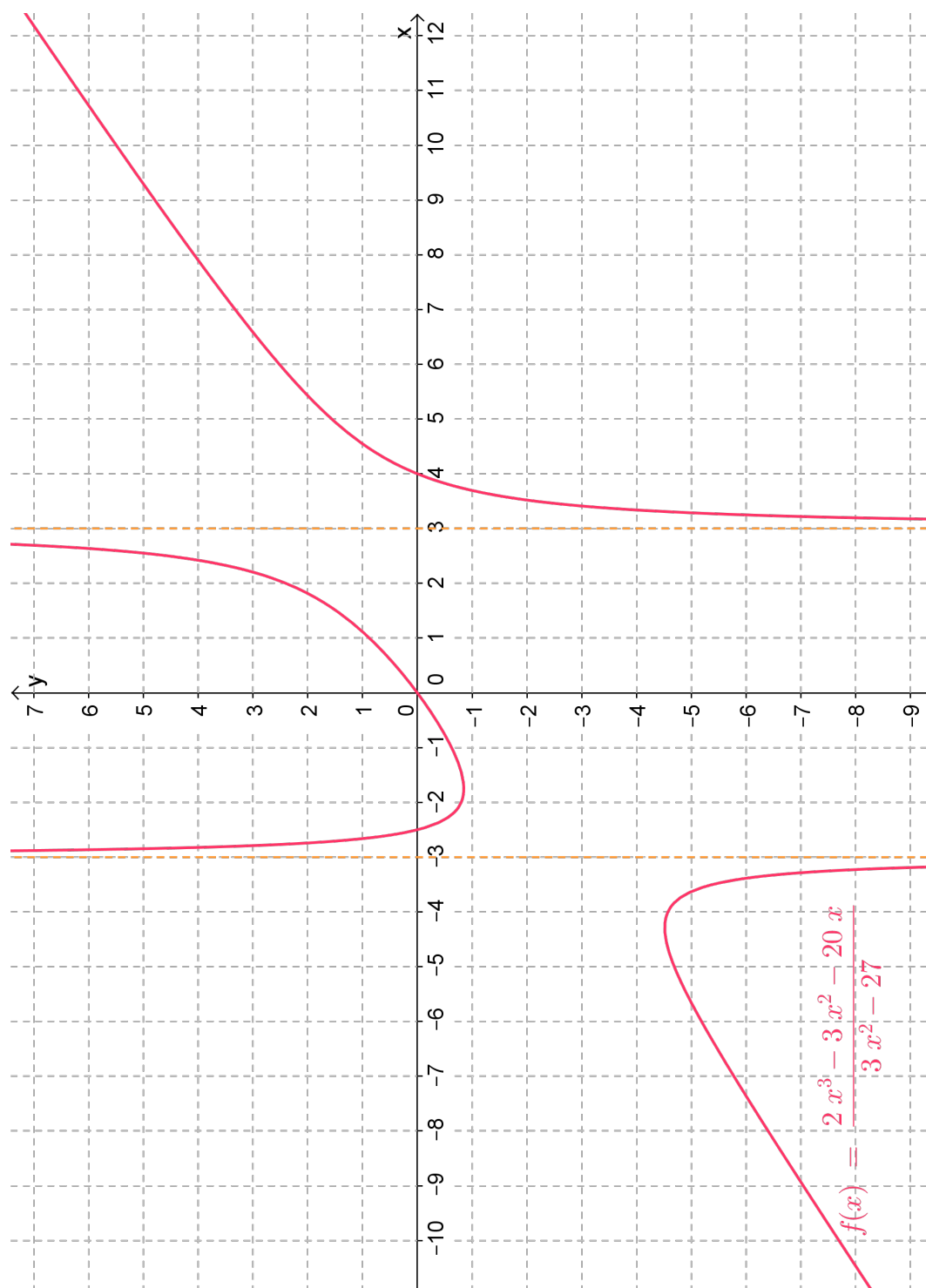
Annexe : Graphe de la fonction de l'exercice 3



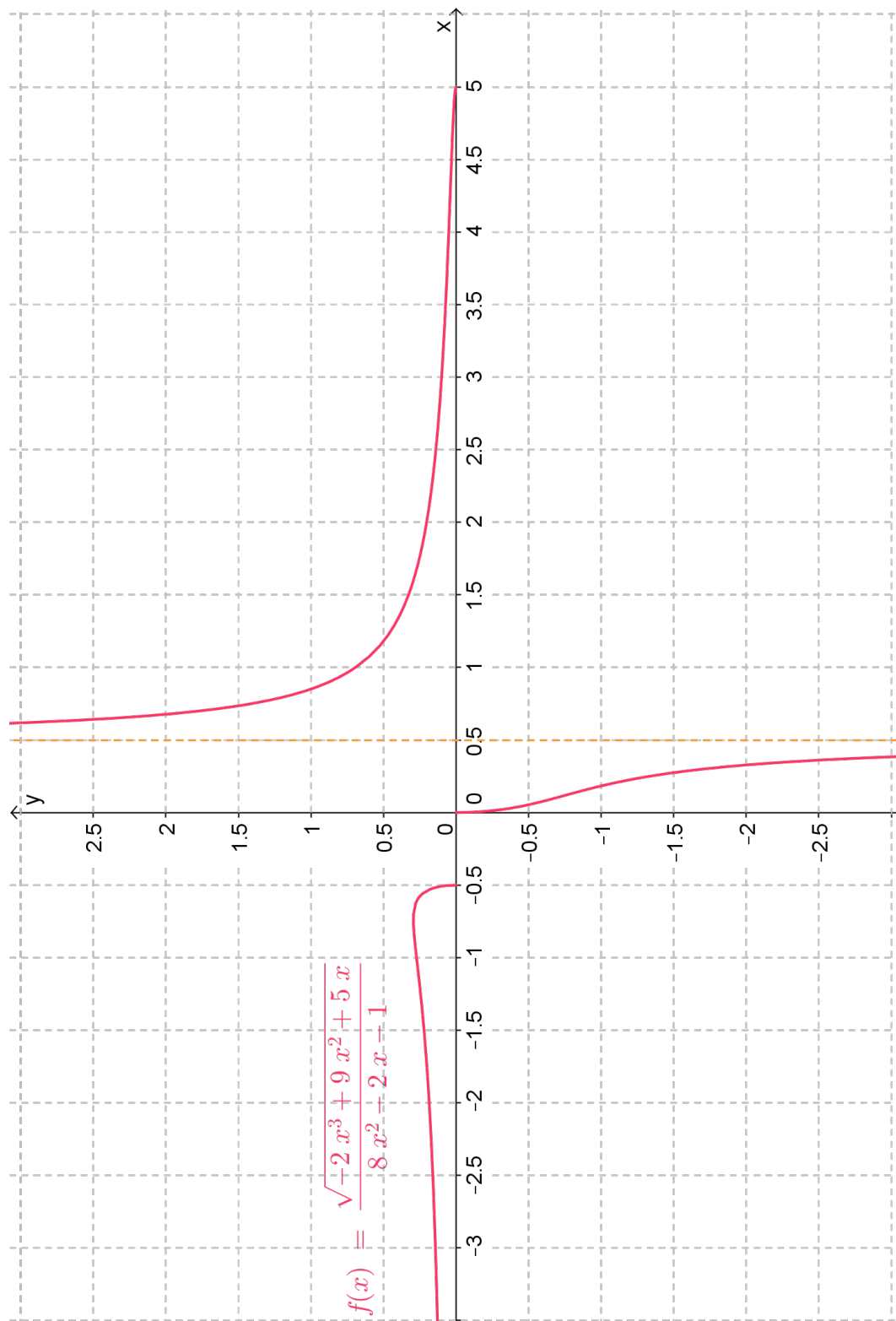
Annexe : Graphe de la fonction de l'exercice 4



Annexe : Graphe de la fonction de l'exercice 5



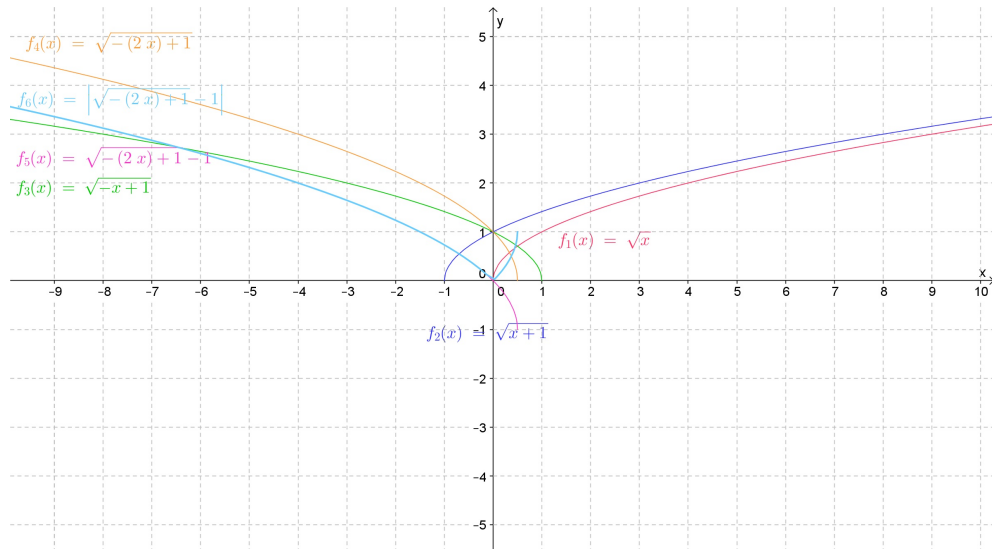
Annexe : Graphe de la fonction de l'exercice 6



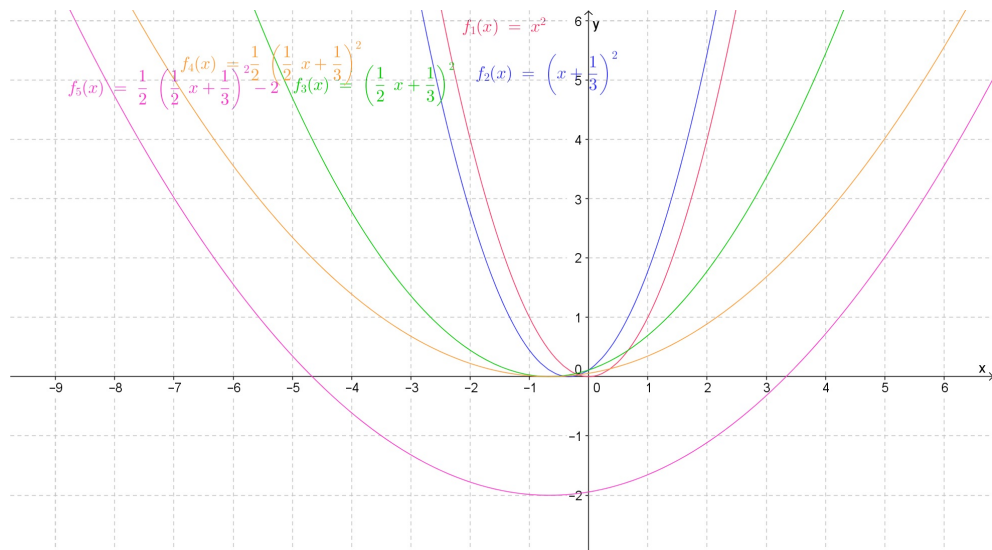
1.2 Solutions

1.

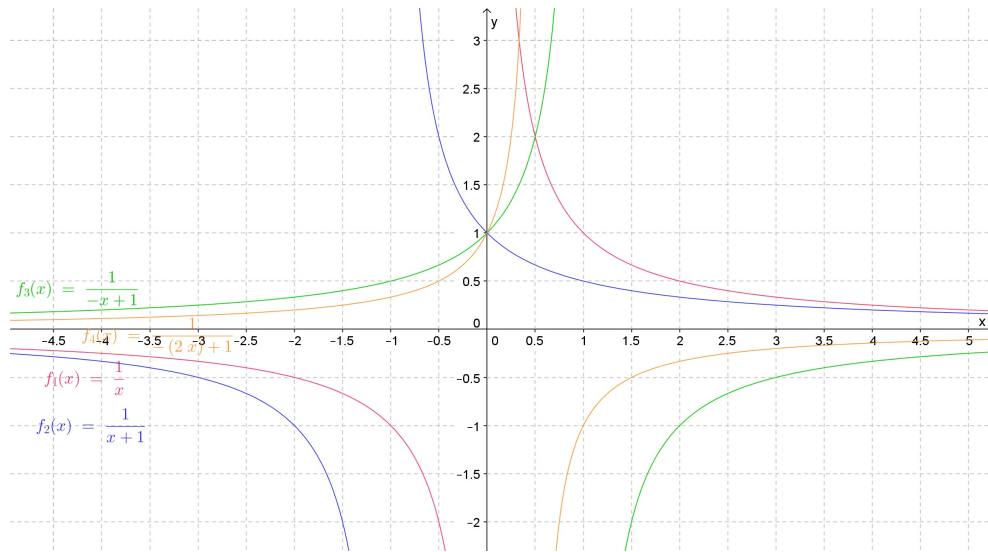
(a)



(b)



(c)



2. (a) Il suffit de développer le second membre

(b)



(c) $S : (1, -5)$, $AS \equiv x = 1$, $\cap Ox : \left(\frac{2 \pm \sqrt{10}}{2}, 0 \right)$ (ou $(2,58;0)$ et $(-0,58;0)$),
 $\cap Oy : (0, -3)$, $a > 0 : \cup$

3. (a) $\text{dom}_f : \mathbb{R} \setminus \{0, 2\}$

(b) Antécédents de 1 : $f(x) = 1 \Leftrightarrow x = \frac{3 \pm \sqrt{5}}{2}$ ($\approx 2,62$ et $0,38$)

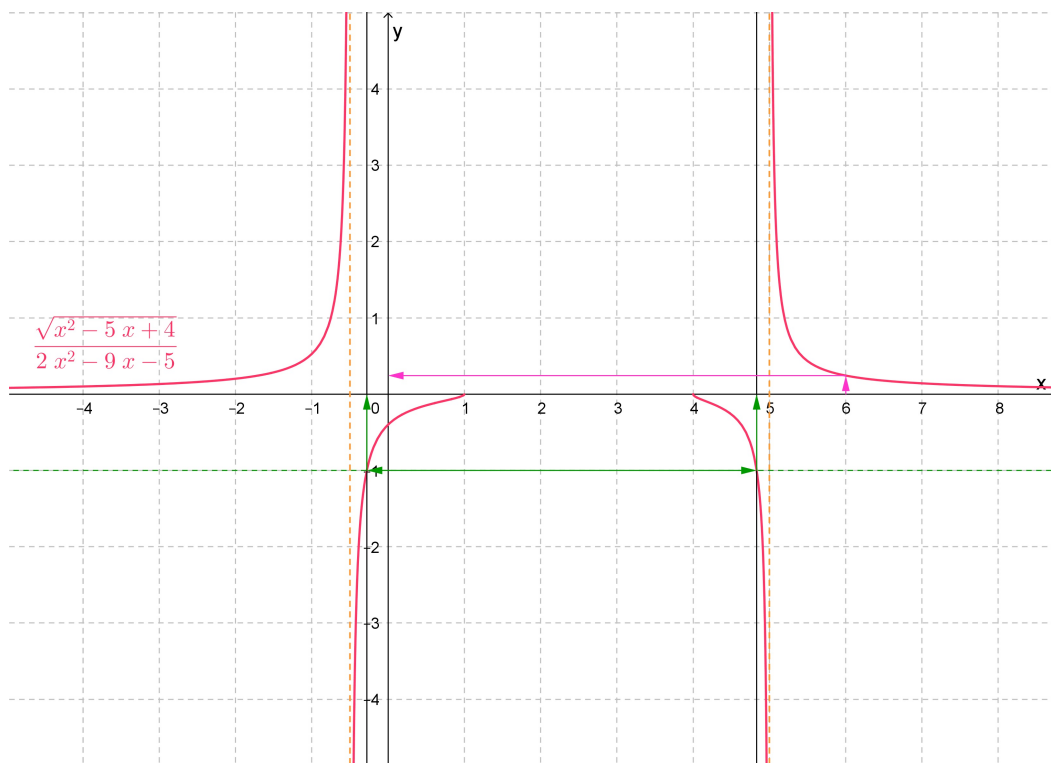
(c) Zéro : $f(x) = 0 \Leftrightarrow x = 1$ et $f(-1) = -\frac{2}{3}$



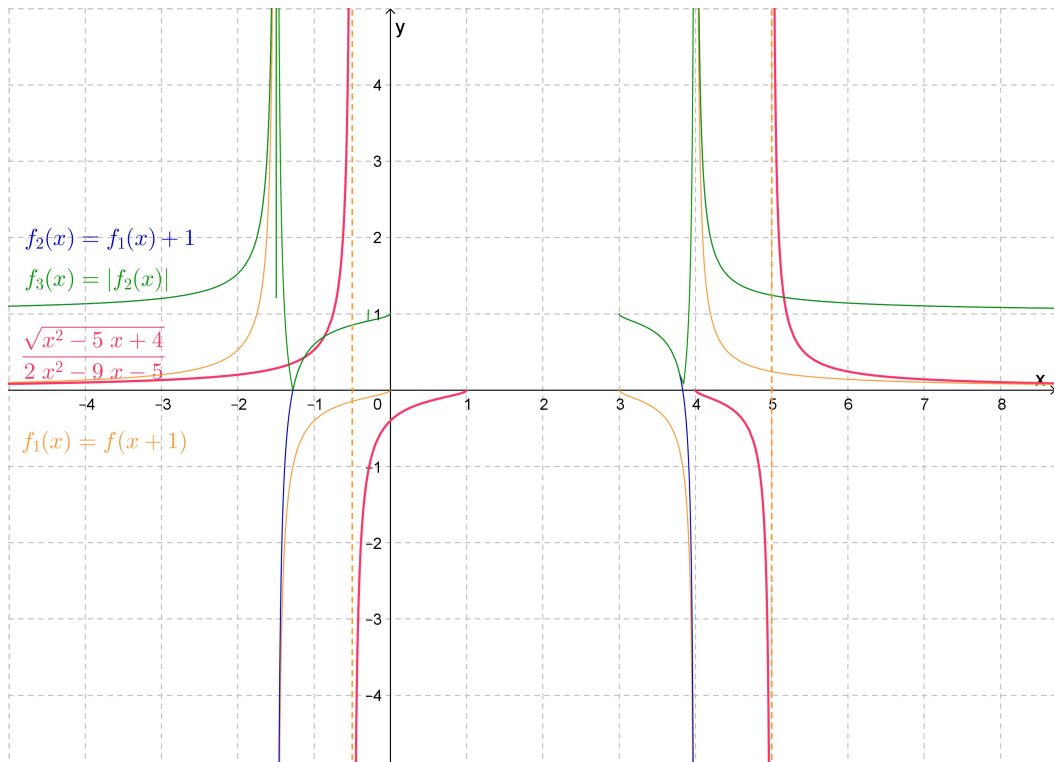
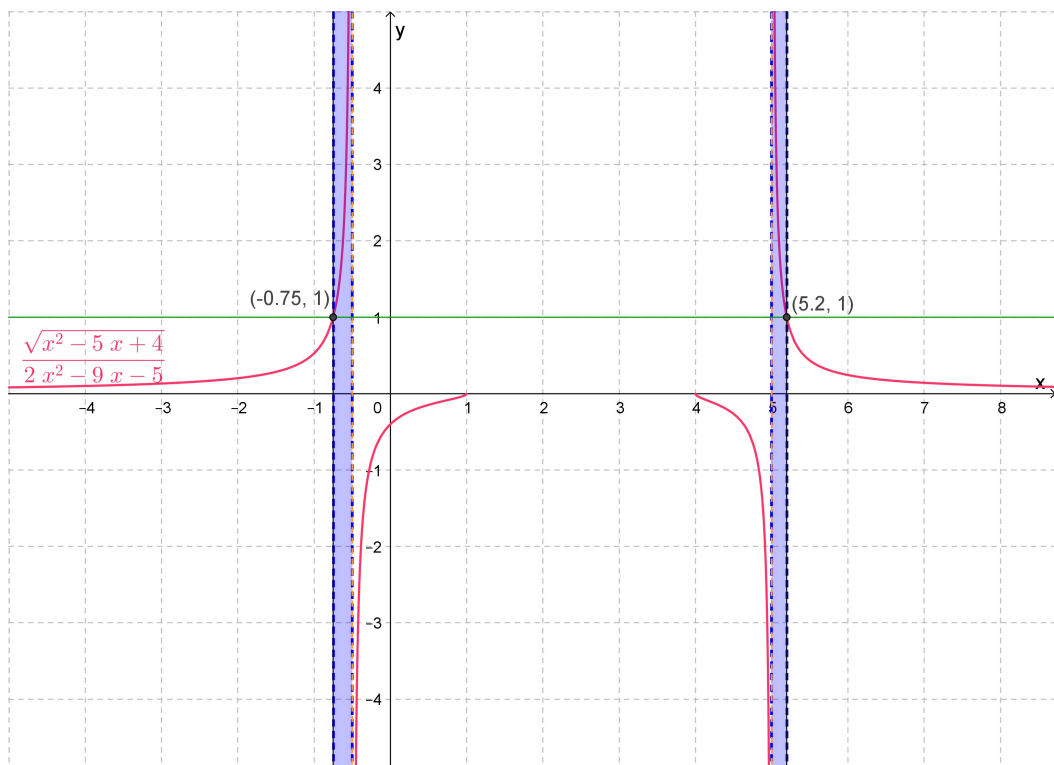
(d)



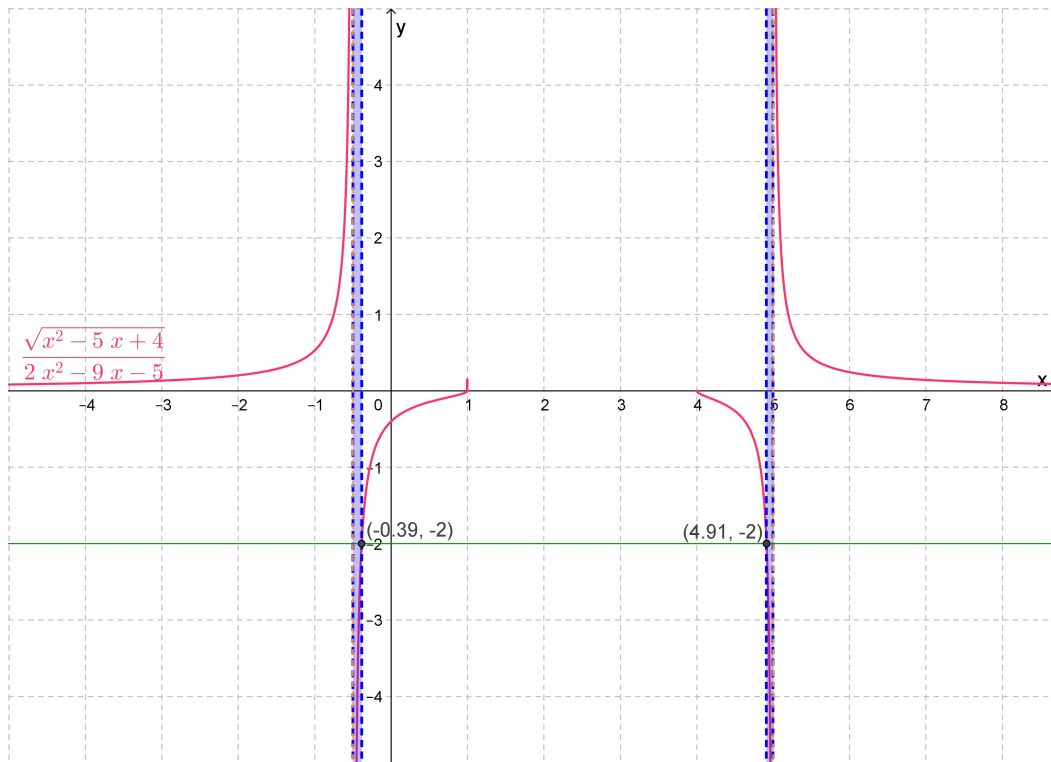
4. (a) $\text{dom}_f : -\infty, -\frac{1}{2} \left[\cup \right] -\frac{1}{2}, 1 \left[\cup \right] 4, 5 \left[\cup \right] 5, +\infty$
 (b) Antécédents de -1 : $x \approx -0,3$ et $x \approx 4,8$
 (c) $f(x) = 0 \Leftrightarrow x = 1$ ou $x = 4$; $f(2) \nexists$; $f(6) = \frac{\sqrt{10}}{13}$



(d)

(e) $f(x) > 1 :]-0,75; -\frac{1}{2}[\cup]5; 5,2[$ 

$$f(x) \leq -2 : \left] -\frac{1}{2}; -0,39 \right] \cup [4,91; 5[$$



5. (a) $\text{dom}_f : \mathbb{R} \setminus \{-3, 3\}$

(b) zéros : $\left\{ -\frac{5}{2}, 0, 4 \right\}$

(c) $f(2) = \frac{12}{5}$

(d) Antécédents de $\frac{7}{2}$: $x \approx -2,81$, $x \approx 2,33$ et $x \approx 7,23$

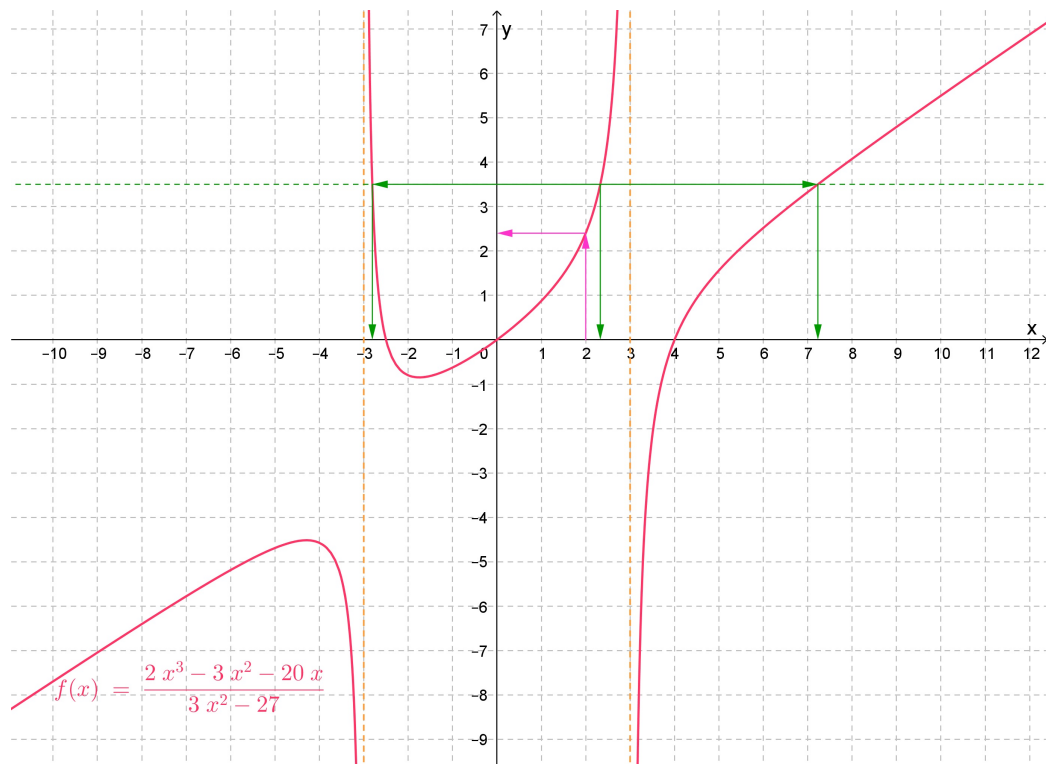
(e) Tableau de signe :

x	-3	$-\frac{5}{2}$	0	3	4						
x	-	-	-	0	+	+	+				
$2x^2 - 3x - 20$	+	+	0	-	-	-	0	+			
$3x^2 - 27$	+	0	-	-	-	0	+	+			
$f(x)$	-	\neq	+	0	-	0	+	\neq	-	0	+

(f) Le domaine de $g(x)$ est, vu le tableau de signe précédent :

$$CE : \frac{2x^3 - 3x^2 - 20x}{3x^2 - 27} \geq 0$$

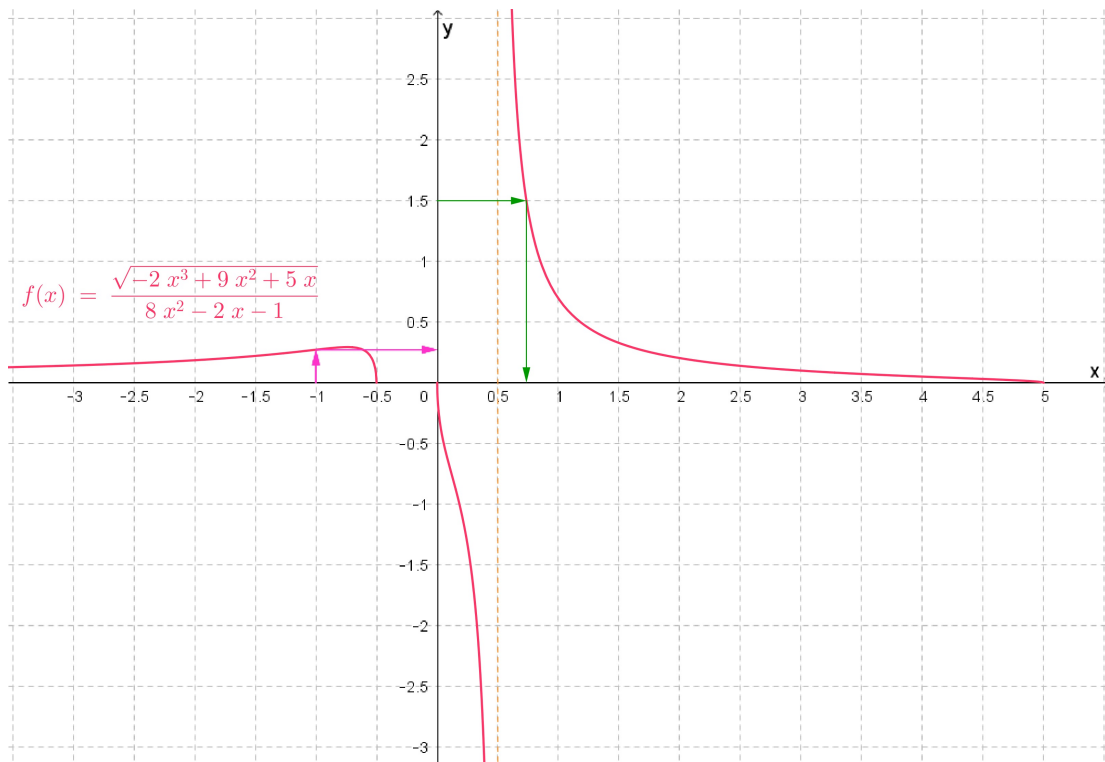
$$\text{dom}_g : \left] -3, -\frac{5}{2} \right] \cup [0, 3[\cup [4, +\infty$$



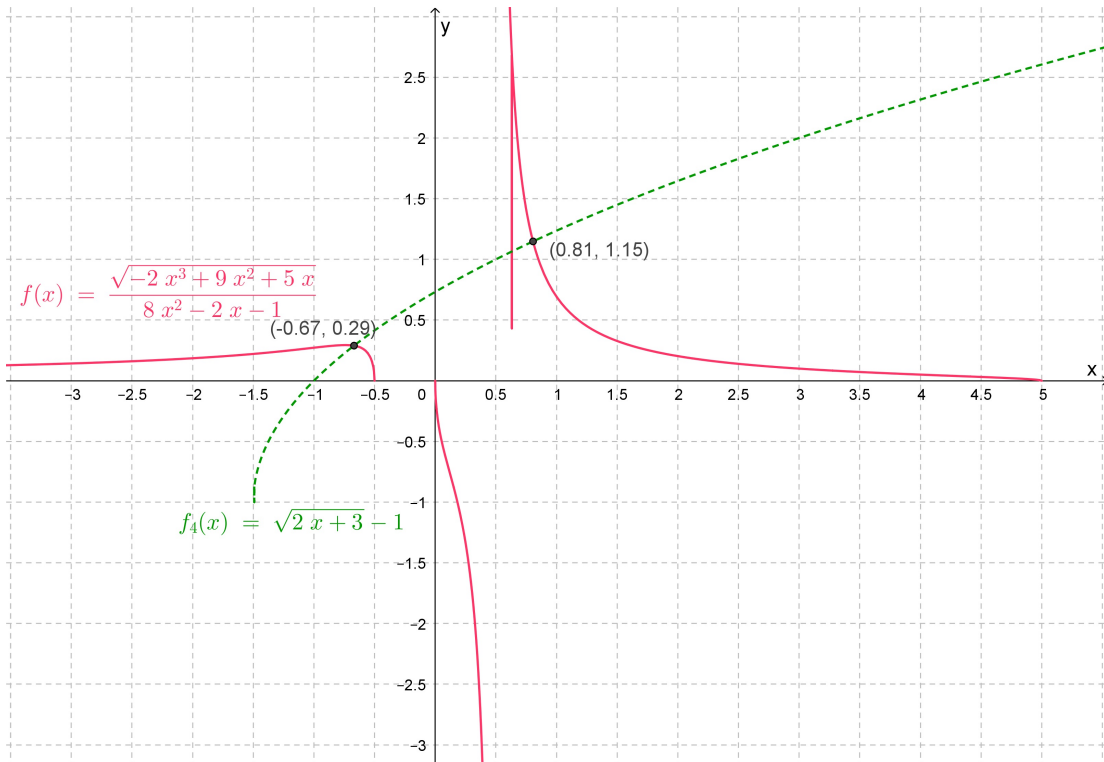
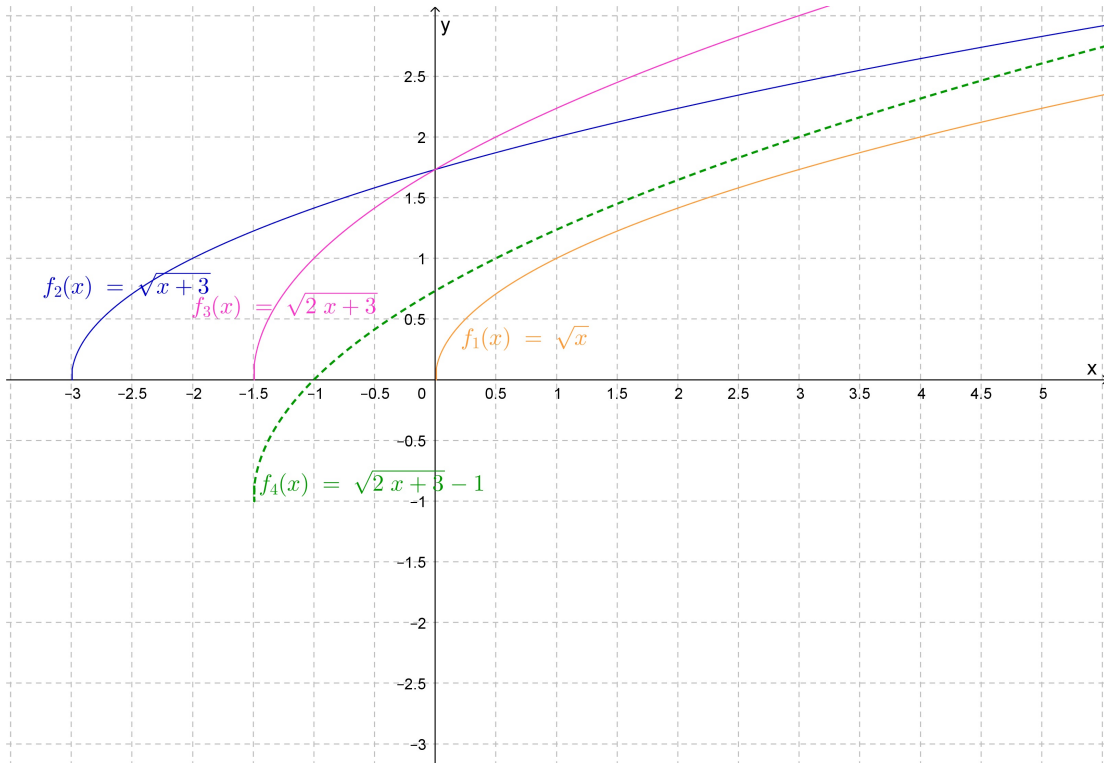
6. (a) $\text{dom}_f : -\infty, -\frac{1}{2}] \cup [0, \frac{1}{2}[\cup]\frac{1}{2}, 5]$, zéros : $\left\{ -\frac{1}{2}, 0, 5 \right\}$

(b) $f(-1) = \frac{\sqrt{6}}{9} \approx 0,27$

(c) Antécédents de $\frac{3}{2}$: $x \approx 0,74$

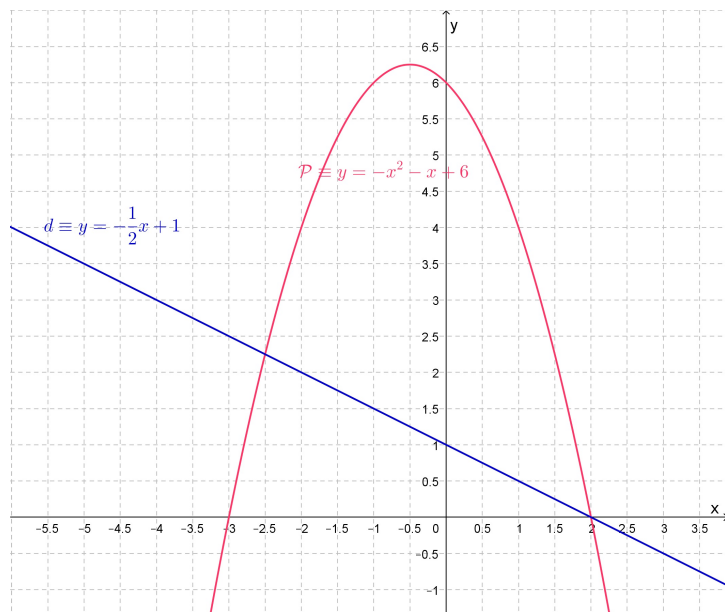


(d)



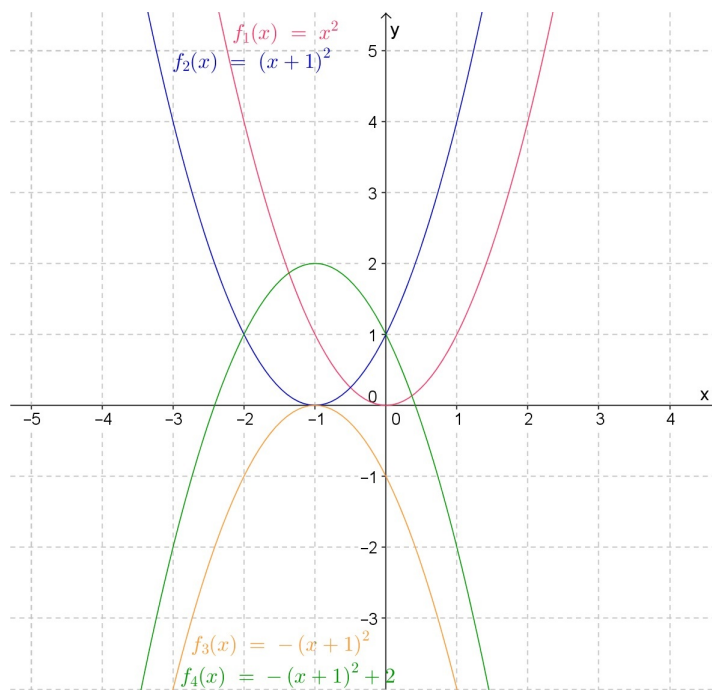
7. (a) $k = 0$
 (b) $k = \frac{43}{16}$
 (c) $b = 4$ et $c = 0$
 (d) $b = -4$ et $c = 0$

8. (a) $S : \left(-\frac{1}{2}, \frac{25}{4}\right)$, $AS \equiv x = -\frac{1}{2}$, $\cap Ox : (2,0)$ et $(-3,0)$, $\cap Oy : (0,6)$, $a < 0 : \cap$
 (b) $S : \left]-\frac{5}{2}, 2\right[$
 (c)



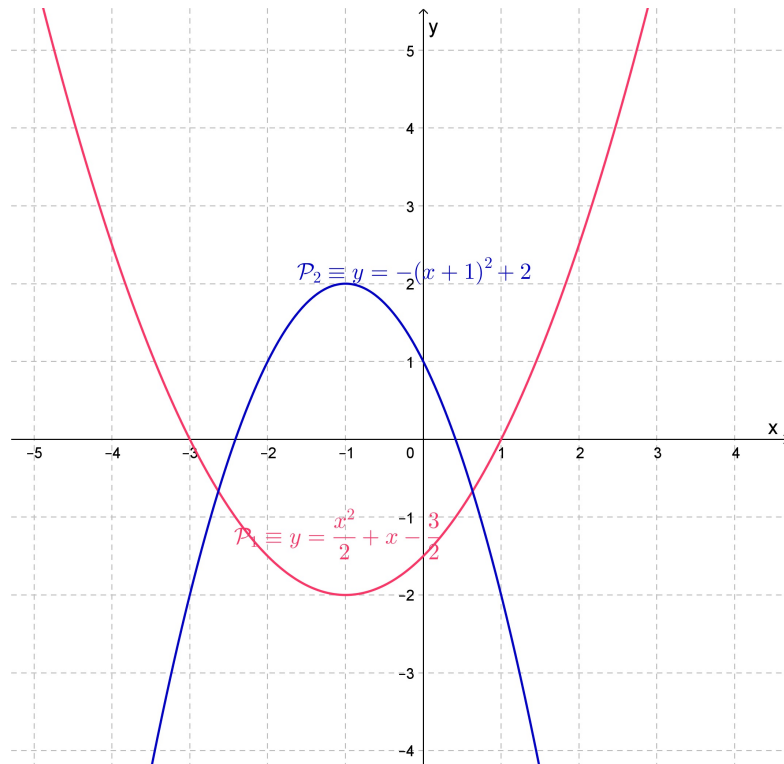
(d) Voir graphique.

9. $m \in -\infty, -1[\cup]1, +\infty$
 10. $m > 0$
 11. (a) $S : (-1, 2)$, $AS \equiv x = -1$, $\cap Ox : (1,0)$ et $(-3,0)$, $\cap Oy : \left(0, -\frac{3}{2}\right)$, $a > 0 : \cup$
 (b)



$$(c) A : \left(\frac{-3 - 2\sqrt{6}}{3}, -\frac{2}{3} \right) \text{ et } B : \left(\frac{-3 + 2\sqrt{6}}{3}, -\frac{2}{3} \right)$$

$$(d) S : \left[\frac{-3 - 2\sqrt{6}}{3}, \frac{-3 + 2\sqrt{6}}{3} \right]$$



12.

x	$-1 - \sqrt{3}$	0	$-1 + \sqrt{3}$	1	3
$1 - x$	+	+	+	+	-
$x^2 - 3x$	+	+	0	-	0
$x^2 + 2x - 2$	+	0	-	0	+
$f(x)$	+	≠	-	0	+
				≠	-
					0
					+
					0
					-

13. $y = -3x + 7$

14. (a) L'équation réduite est : $\frac{2x^2 - 2x - 1}{x^2 - 4} \leq 0$

$$S : \left] -2, \frac{1 - \sqrt{3}}{2} \right] \cup \left[\frac{1 - \sqrt{3}}{2}, 2 \right[$$

(b) L'équation réduite est : $\frac{-(6x^2 + 3x)}{(x + 2)(4x - 1)} > 0$

$$S : \left] -2, -\frac{1}{2} \right[\cup \left] 0, \frac{1}{4} \right[$$

(c) L'équation réduite est : $\frac{x^2 + 4x - 1}{x^2 - 3x - 4} < 0$

$$S : \left] -2 - \sqrt{5}, -1 \right[\cup \left] -2 + \sqrt{5}, 4 \right[$$

2.1 Exercices

1. Dans un cercle de 5 cm de rayon, placer les angles suivants et y lire une valeur approchée des nombres trigonométriques de ces angles

(a) $a = 315^\circ$

(d) $a = 67,5^\circ$

(b) $a = -217^\circ$

(e) $a = -75^\circ$

(c) $a = 113^\circ$

(f) $a = 202,5^\circ$

2. Calculer la valeur exacte des nombres trigonométriques de x si :

(a) $\tan x = -\sqrt{6}$ et $x \in Q_{II}$;

(b) $\cot x = \frac{\sqrt{2}}{2}$ et $x \in Q_{III}$;

(c) $\cos x = -\frac{5}{6}$ et $x \in Q_{II}$

3. Simplifier les expressions suivantes

(a) $(\cos x + 2 \sin x)^2 + (2 \cos x - \sin x)^2$

(b) $\tan^2 a + \cot^2 a + 2 - \frac{1}{\sin^2 a \cos^2 a}$

(c) $\sin^2 a \cos^2 b - \cos^2 a \sin^2 b - (\sin^2 a - \sin^2 b)$

(d) $\sin^2 a \tan a + \cos^2 a \cot a + 2 \sin a \cos a - (\tan a + \cot a)$

4. Calculer la valeur exacte des expressions suivantes et justifier les résultats obtenus :

(a) $(1 + \sin 60^\circ + \sin^2 30^\circ + \sin^2 60^\circ + \sin^4 45^\circ)(\cos 30^\circ - \sin 60^\circ)$

(b) $\frac{\tan 480^\circ \sin 150^\circ}{\cos 315^\circ \cot 30^\circ} + \frac{\cot(-240^\circ) \cos 240^\circ}{\sin 135^\circ \tan(-330^\circ)}$

5. Simplifier les expressions suivantes et justifier les résultats obtenus :

(a) $\cos(540^\circ - x) + \cos(90^\circ + x) + \sin(-270^\circ - x)$

(b) $\frac{\sin(270^\circ - x) \tan(180^\circ - x)}{\tan(-180^\circ + x) \cos(180^\circ - x)} + \frac{\cot(90^\circ + x) \sin(x - 90^\circ)}{\cos(x - 1260^\circ) \tan(-x)}$

6. (a) Simplifier l'expression suivante et justifier les résultats obtenus :

$$\frac{\sin(90^\circ - x) - \tan(-180^\circ - x)}{\tan(270^\circ + x) - \sin(-x)}$$

Si x est un angle du deuxième quadrant tel que $\tan x = -\frac{2}{3}$, calculer la valeur exacte de l'expression simplifiée.

(b) Simplifier l'expression et justifier les résultats obtenus :

$$\frac{\sin(90^\circ - x) \tan(180^\circ - x)}{\cos(90^\circ + x) \cot(-540^\circ - x)} + \frac{\sin(1620^\circ - x) \cot(90^\circ - x)}{\cot(x + 900^\circ) \sin(270^\circ - x)}$$

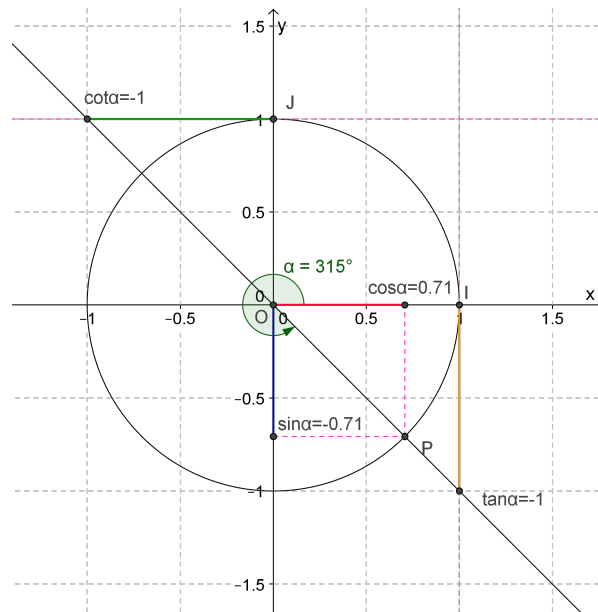
et en donner la valeur exacte si $x = -210^\circ$ et $x = 225^\circ$.

2.2 Solutions

1.

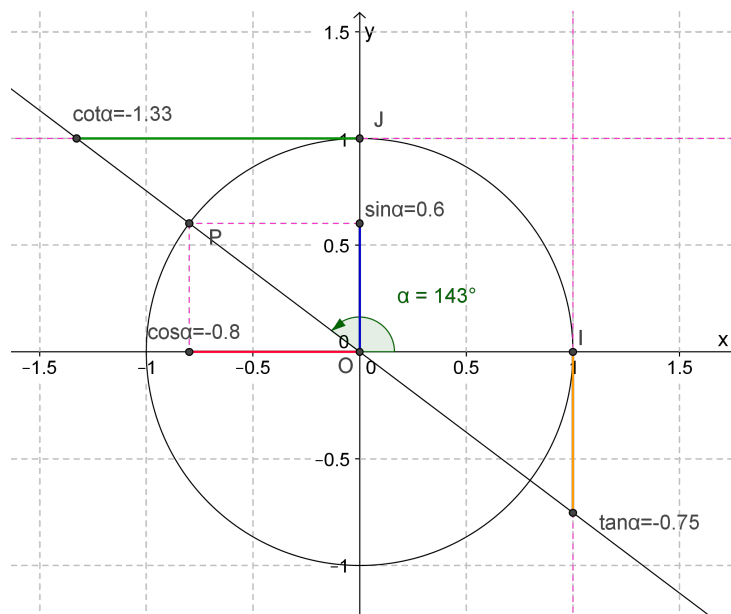
(a)

$\sin a \approx -0,708$	$\cos a \approx 0,709$	$\tan a \approx -1$	$\cot a \approx -1$
-------------------------	------------------------	---------------------	---------------------



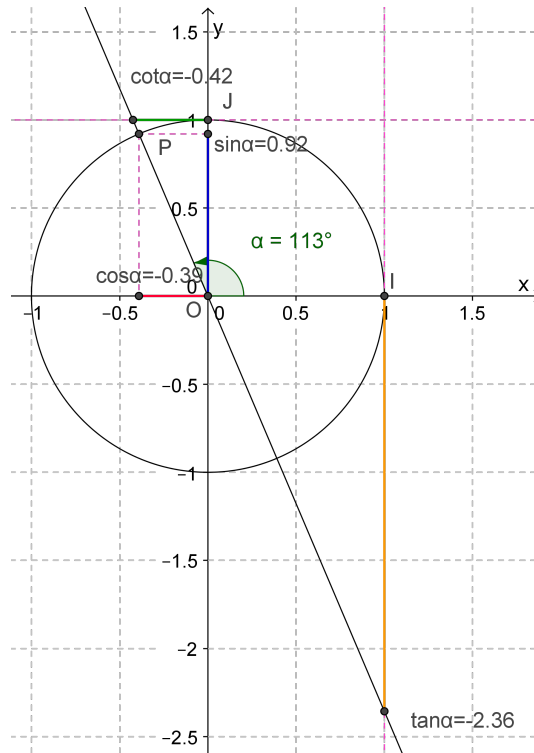
(b)

$\sin a \approx 0,602$	$\cos a \approx -0,798$	$\tan a \approx -0,754$	$\cot a \approx -1,328$
------------------------	-------------------------	-------------------------	-------------------------



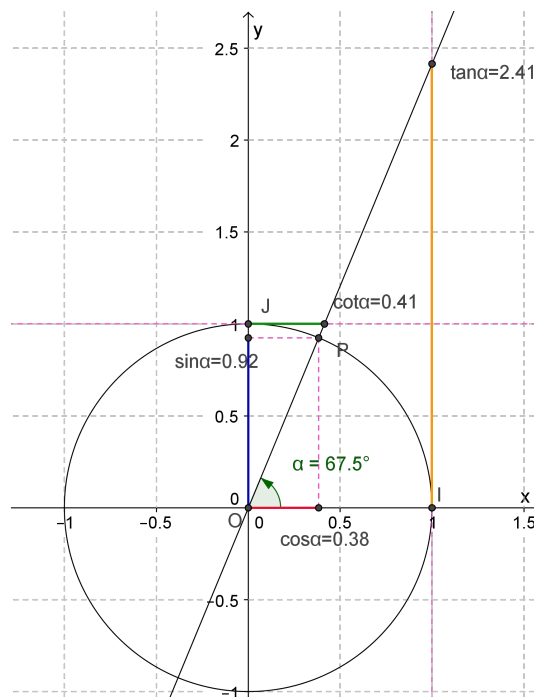
(c)

$\sin a \approx 0,92$	$\cos a \approx -0,39$	$\tan a \approx -2,356$	$\cot a \approx -0,424$
-----------------------	------------------------	-------------------------	-------------------------



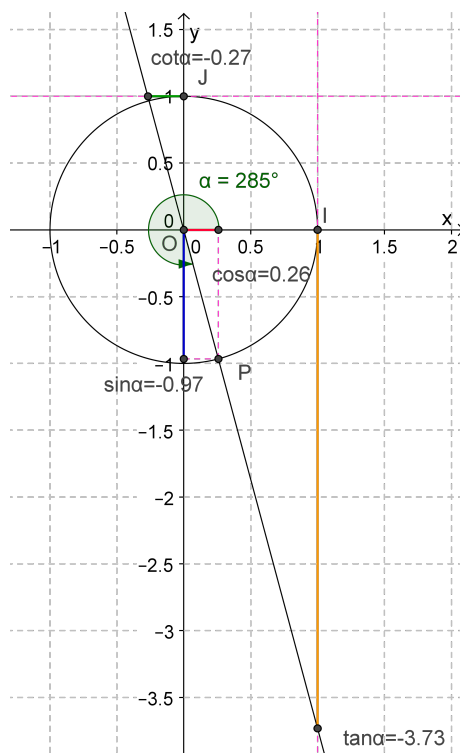
(d)

$\sin a \approx 0,924$	$\cos a \approx 0,382$	$\tan a \approx 2,414$	$\cot a \approx 0,414$
------------------------	------------------------	------------------------	------------------------



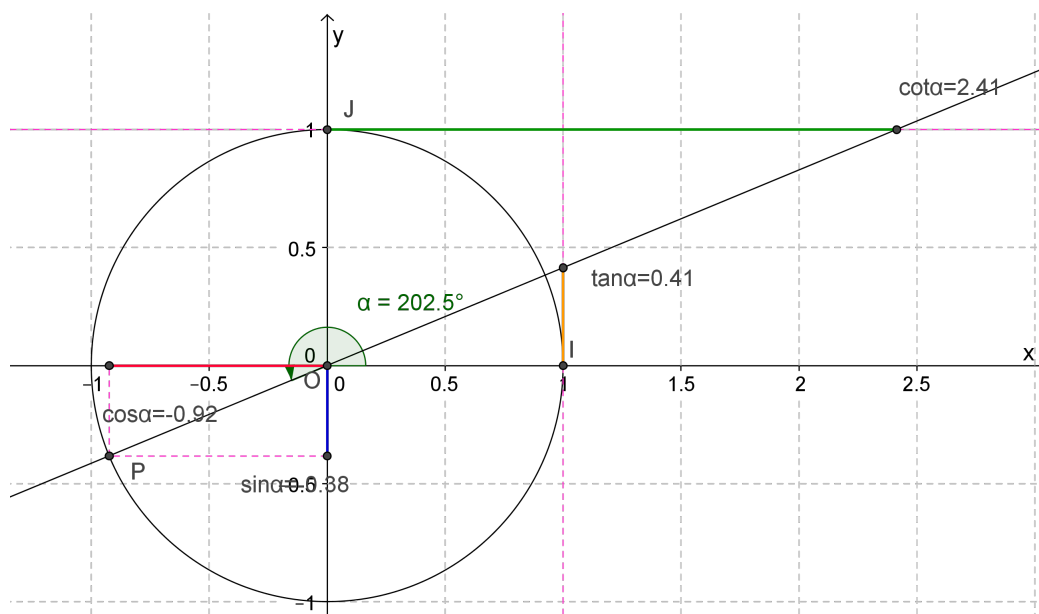
(e)

$\sin a \approx -0,966$	$\cos a \approx 0,258$	$\tan a \approx -3,372$	$\cot a \approx -0,268$
-------------------------	------------------------	-------------------------	-------------------------



(f)

$\sin a \approx -0,382$	$\cos a \approx -0,924$	$\tan a \approx 0,414$	$\cot a \approx 2,414$
-------------------------	-------------------------	------------------------	------------------------



2. (a) $\sin x = \frac{\sqrt{42}}{7}, \cos x = -\frac{\sqrt{7}}{7}, \tan x = -\sqrt{6}$ et $\cot x = -\frac{\sqrt{6}}{6}$
- (b) $\sin x = -\frac{\sqrt{6}}{3}, \cos x = -\frac{\sqrt{3}}{3}, \tan x = \sqrt{2}$ et $\cot x = \frac{\sqrt{2}}{2}$
- (c) $\sin x = \frac{\sqrt{11}}{6}, \cos x = -\frac{5}{6}, \tan x = -\frac{\sqrt{11}}{5}$ et $\cot x = -\frac{5\sqrt{11}}{11}$

3. (a) Développer chaque membre.
 (b) Développer chaque membre.
 (c) Développer chaque membre.
 (d) Développer chaque membre.

4. (a) $\left(1 + \frac{\sqrt{3}}{2} + \frac{1}{4} + \frac{1}{2}\right) \left(\frac{\sqrt{3}}{2} - \frac{\sqrt{3}}{2}\right) = 0$

(b) $\frac{-\sqrt{3}\frac{1}{2}}{\frac{\sqrt{2}}{2}\sqrt{3}} + \frac{-\frac{\sqrt{3}}{3} \cdot -\frac{1}{2}}{\frac{\sqrt{2}}{2}\frac{\sqrt{3}}{3}} = 0$

5. (a) $-\sin x$
 (b) 0

6. (a) $\frac{\cos x + \tan x}{-\cot x + \sin x}$.

$\sin x = \frac{2\sqrt{13}}{13}$, $\cos x = -\frac{3\sqrt{13}}{13}$, $\tan x = -\frac{2}{3}$ et $\cot x = -\frac{3}{2}$ et

$\frac{\cos x + \tan x}{-\cot x + \sin x} = -\frac{-38\sqrt{13} - 84}{303}$


(b) $\frac{\cos x(-\tan x)}{-\sin x(-\cot x)} + \frac{\sin x \tan x}{\cot x(-\cos x)} = -\frac{\sin x}{\cos^3 x}$

Si $x = -210^\circ$, l'expression vaut $\frac{4\sqrt{3}}{9}$

Si $x = 225^\circ$, l'expression vaut -2.

3.1 Exercices

1. Soient les points A , B , C et D du plan représentés ci-dessus.

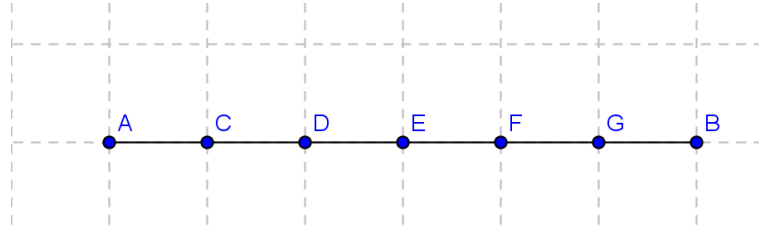


(a) Déterminer graphiquement un représentant des vecteurs suivants :

- i. $\frac{2}{3} \overrightarrow{DB}$
- ii. $\overrightarrow{CB} - 2\overrightarrow{AD}$
- iii. $-\frac{3}{4} \overrightarrow{BC}$

(b) Trouver le point X tel que $\overrightarrow{AX} = \frac{1}{2} (\overrightarrow{AB} - \overrightarrow{XA} + \overrightarrow{CB})$

2. Le segment $[AB]$ est divisé en 6 parties égales.



Compléter les relations suivantes :

(a) par la lettre qui convient :

- i. $\vec{E}\dots = -2\vec{EF}$
- ii. $\vec{C}\dots + \vec{G}\dots = \vec{0}$
- iii. $\vec{AB} = \frac{3}{2}\vec{A}\dots$

(b) par le nombre qui convient :

- i. $\vec{CE} = \dots\vec{AB}$
- ii. $\vec{AD} = \dots\vec{BF}$
- iii. $\vec{DE} = \dots\vec{BF}$

3. Soit $ABCD$ un parallélogramme de centre I .

Compléter les relations suivantes (il *faut* rajouter des points pour construire ces figures) :

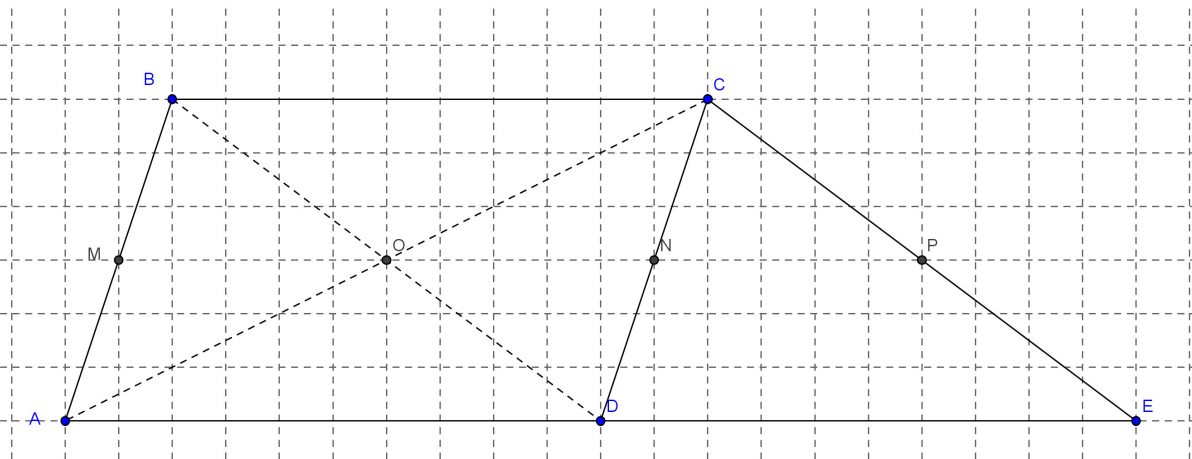
(a) par la lettre qui convient :

- i. $\vec{A}\dots = -2\vec{AI}$
- ii. $\vec{C}\dots + \vec{B}\dots = \vec{0}$
- iii. $\vec{CI} = \frac{1}{2}\vec{B}\dots$

(b) par le nombre qui convient :

- i. $\vec{CD} = \dots\vec{AB}$
- ii. $\vec{AI} = \dots\vec{CA}$
- iii. $\vec{BD} = \dots\vec{DI}$

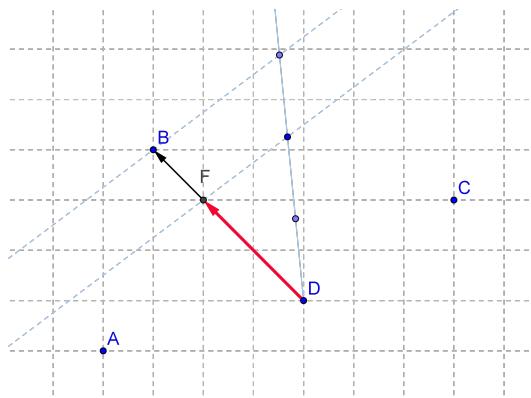
4. $ABCD$ et $BCED$ sont deux parallélogrammes. M , N et P sont les milieux respectifs de $[AB]$, $[CD]$ et $[CE]$.



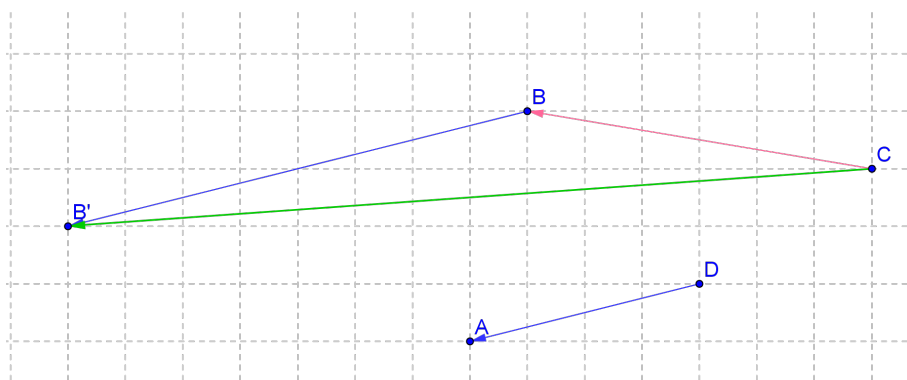
- (a) Citer deux représentants du vecteur \overrightarrow{ND}
- (b) Compléter les égalités suivantes :
- $\overrightarrow{AO} = \dots \overrightarrow{CO}$
 - $\overrightarrow{EP} = \dots \overrightarrow{DB}$
 - $\dots + \overrightarrow{DE} = \overrightarrow{BD}$
 - $\overrightarrow{AM} - \frac{1}{2} \overrightarrow{BC} = \dots$
5. On donne les points $M(-1,3)$, $N(8,-4)$ et $X(5,a)$ où a est un réel. Comment choisir a pour que les points M , N et X soient alignés ?
6. Soient les points $A(7,2)$, $B(3,-3)$, $C(0,2)$ et $D(8,y)$.
- Déterminer y pour que D soit situé sur la parallèle à (AB) passant par C .
 - Déterminer les coordonnées de E pour que $AEBC$ soit un parallélogramme ;
7. Dans le plan muni d'un repère (O, \vec{i}, \vec{j}) , on considère quatre points $A(-1,2)$, $B(1,-1)$, $C(2,4)$ et $D(6,-2)$.
- Faire une figure.
 - Montrer que $ABDC$ est un trapèze et non un parallélogramme.
 - Soit I le milieu de $[AC]$ et J le milieu de $[BD]$. Démontrer que la droite (IJ) est parallèle à la droite (AB) .
 - Soit K le milieu de $[BC]$ et L le point tel que $2\overrightarrow{AL} = \overrightarrow{AD}$. Montrer que les points I , J , K et L sont alignés.
8. Dans un repère orthonormé on donne les points $A(-5,2)$ et $B(4,-3)$. Déterminer l'équation de la médiatrice de $[AB]$.
9. On donne les points $A(-1,2)$, $B(3,4)$ et $C(1,-3)$.
- Déterminer les coordonnées du centre de gravité du triangle ABC ;
 - Ecrire l'équation de la droite parallèle à Oy passant par B ;
 - Déterminer la longueur de la hauteur relative à C ;
 - Déterminer l'angle entre BC et Ox ;
 - Déterminer le rayon du cercle circonscrit au triangle AGC .

3.2 Solutions

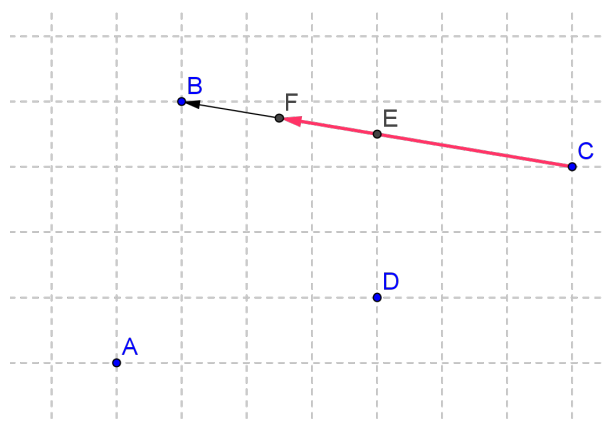
1. (a) i.



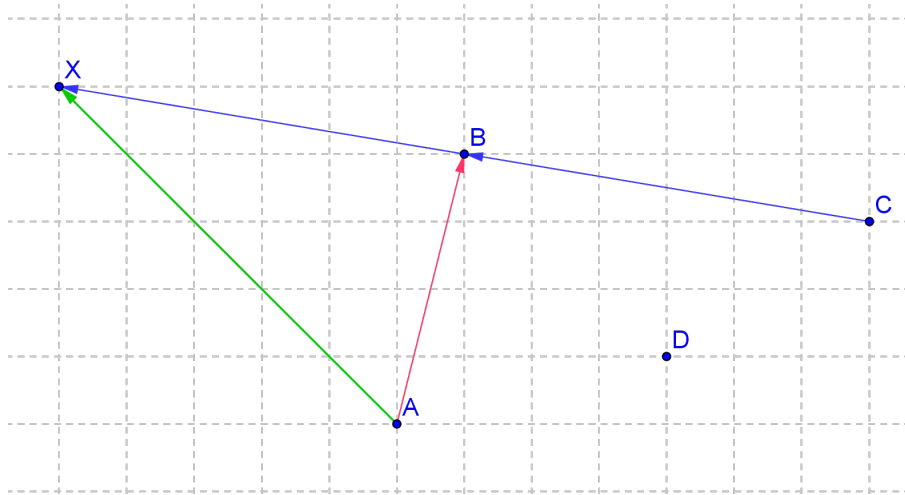
ii.



iii.

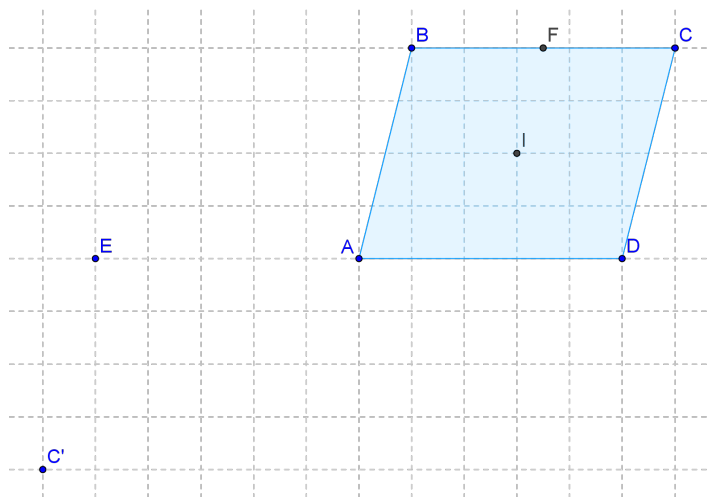


(b) Après simplification $\overrightarrow{AX} = (\overrightarrow{AB} + \overrightarrow{CB})$



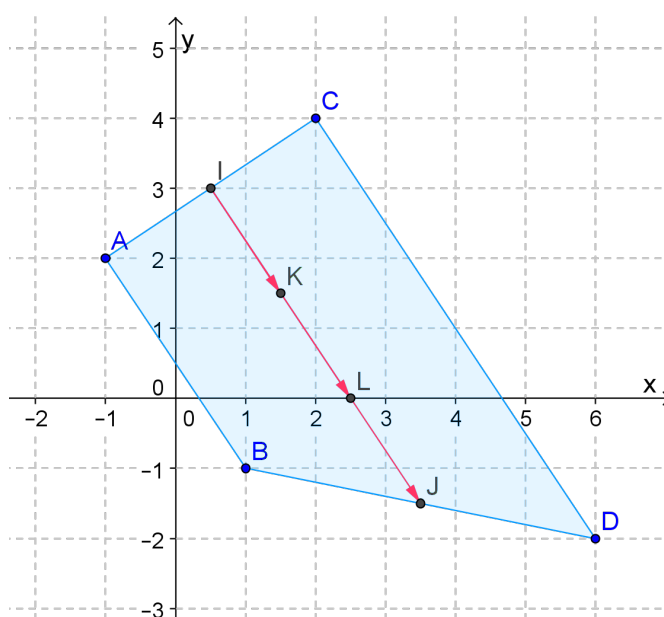
2. (a) i. $\overrightarrow{EC} = -2\overrightarrow{EF}$
 ii. $\overrightarrow{CD} + \overrightarrow{GF} = \vec{0}$
 iii. $\overrightarrow{AB} = \frac{3}{2}\overrightarrow{AF}$
- (b) i. $\overrightarrow{CE} = \frac{1}{3}\overrightarrow{AB}$
 ii. $\overrightarrow{AD} = -\overrightarrow{BF}$
 iii. $\overrightarrow{DE} = -\frac{1}{2}\overrightarrow{BF}$

3.



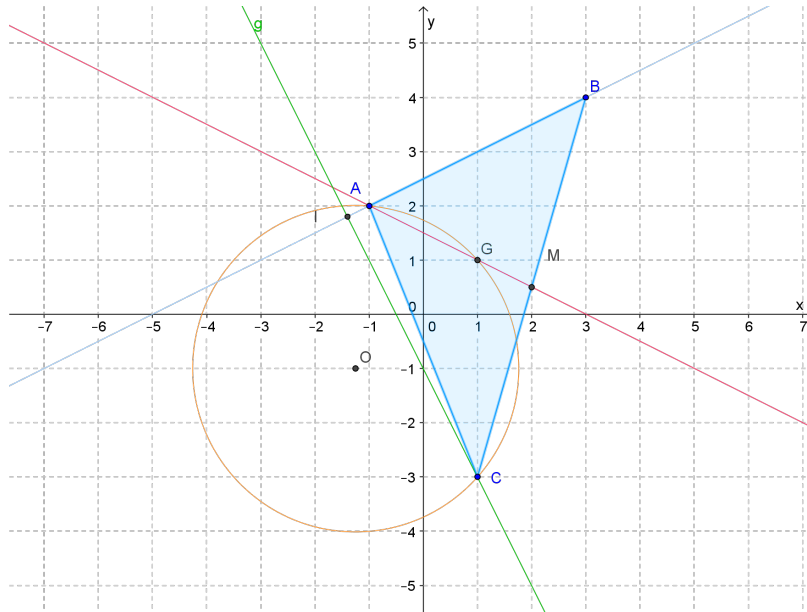
- (a) i. $\overrightarrow{AC'} = -2\overrightarrow{AI}$
 ii. $\overrightarrow{CF} + \overrightarrow{BF} = \vec{0}$
 iii. $\overrightarrow{CI} = \frac{1}{2}\overrightarrow{BE}$
- (b) i. $\overrightarrow{CD} = -\overrightarrow{AB}$
 ii. $\overrightarrow{AI} = -\frac{1}{2}\overrightarrow{CA}$
 iii. $\overrightarrow{BD} = -2\overrightarrow{DI}$

4. (a) $\overrightarrow{ND} = \overrightarrow{MA} = \overrightarrow{BM} = \overrightarrow{CN}$
 (b) i. $\overrightarrow{AO} = -\overrightarrow{CO}$
 ii. $\overrightarrow{EP} = \frac{1}{2}\overrightarrow{DB}$
 iii. $\overrightarrow{BA} + \overrightarrow{DE} = \overrightarrow{BD}$
 iv. $\overrightarrow{AM} - \frac{1}{2}\overrightarrow{BC} = \overrightarrow{AO}$
5. $a = -\frac{5}{3}$
6. (a) $y = 12$
 (b) $E : (10, -3)$
7. (a)



- (b) $\overrightarrow{AB} : (2, -3)$, $\overrightarrow{BD} : (5, -1)$, $\overrightarrow{CD} : (4, -6)$ et $\overrightarrow{AC} : (3, 2)$. \overrightarrow{AB} et \overrightarrow{CD} sont proportionnels et pas les autres vecteurs.
- (c) $I : \left(\frac{1}{2}, 3\right)$, $J : \left(\frac{7}{2}, -\frac{3}{2}\right)$, $\overrightarrow{IJ} : \left(3, -\frac{9}{2}\right)$ et $\overrightarrow{AB} : (2, -3)$ dont les composantes sont proportionnelles;
- (d) $K : \left(\frac{3}{2}, \frac{3}{2}\right)$ et $K : \left(\frac{5}{2}, 0\right)$. $\overrightarrow{IJ} : \left(3, -\frac{9}{2}\right)$, $\overrightarrow{IK} : \left(1, -\frac{3}{2}\right)$ et $\overrightarrow{IL} : (2, -3)$ dont les composantes sont proportionnelles.
8. $m_{[AB]} \equiv -9x + 5y - 2 = 0$.

9.



(a) $G : (1, 1);$

(b) $m_A \equiv x + 2y - 3 = 0$

(c) $x = 3;$

(d) $d(I, C) = \frac{12\sqrt{5}}{5};$

(e) $\alpha \approx 74,05^\circ;$

(f) $O : \left(-\frac{5}{4}, -1\right)$ et $r = d(O, G) = \frac{\sqrt{145}}{4}$

