

# Cercle trigonométrique : Solutions

1. Sans utiliser la calculatrice, donner le **signe** des nombres trigonométriques suivants; justifier à l'aide du cercle trigonométrique.

(a)  $\cos 250^\circ$  négatif

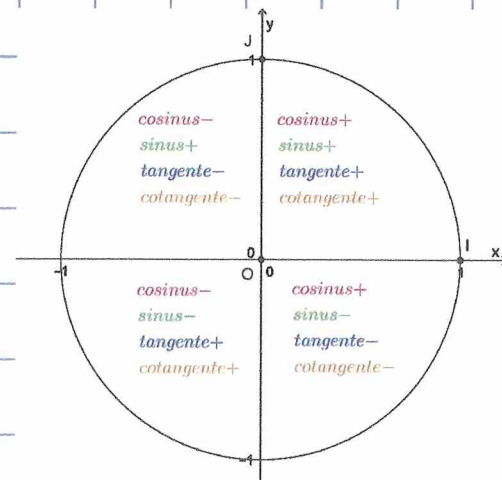
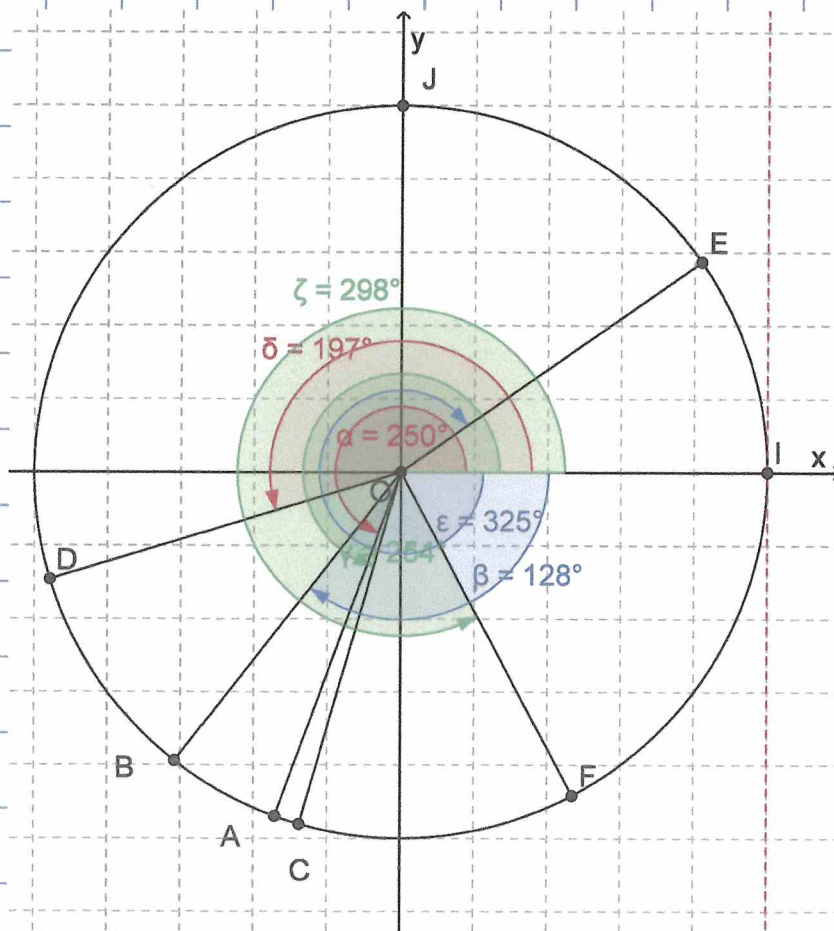
(b)  $\tan -128^\circ$  positif

(c)  $\sin 254^\circ$  négatif

(d)  $\cot 197^\circ$  positif

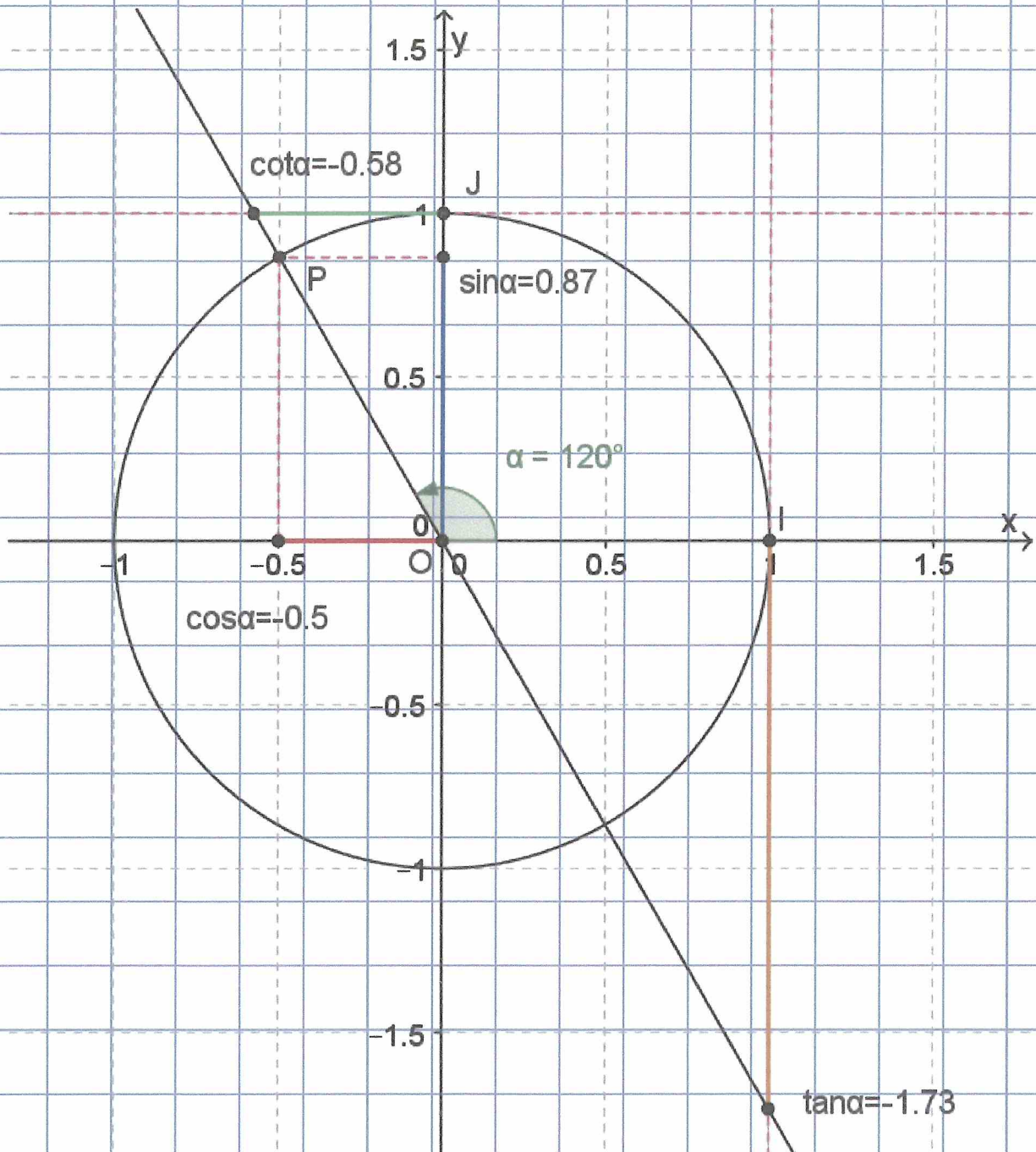
(e)  $\cos(-325^\circ)$  positif

(f)  $\cot 298^\circ$  négatif



2. Dessiner un cercle trigonométrique de 5 cm de rayon. Dans ce cercle, placer les angles suivants et déterminer une valeurs approchées des nombres trigonométriques de ces angles<sup>1</sup>. Vérifier à l'aide de la calculatrice les résultats.

(a)  $120^\circ$

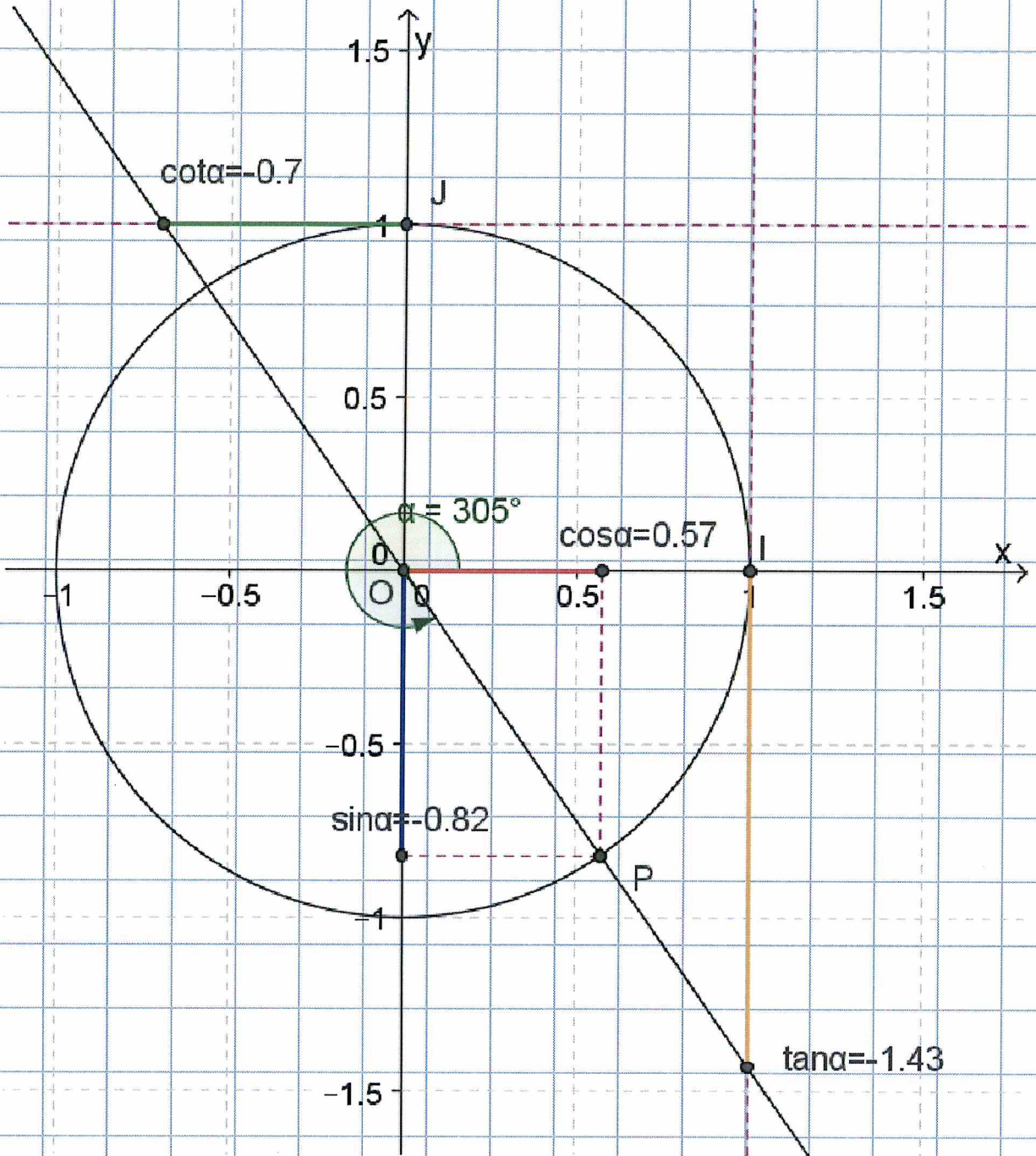


1. Il est conseillé de faire un cercle par angle



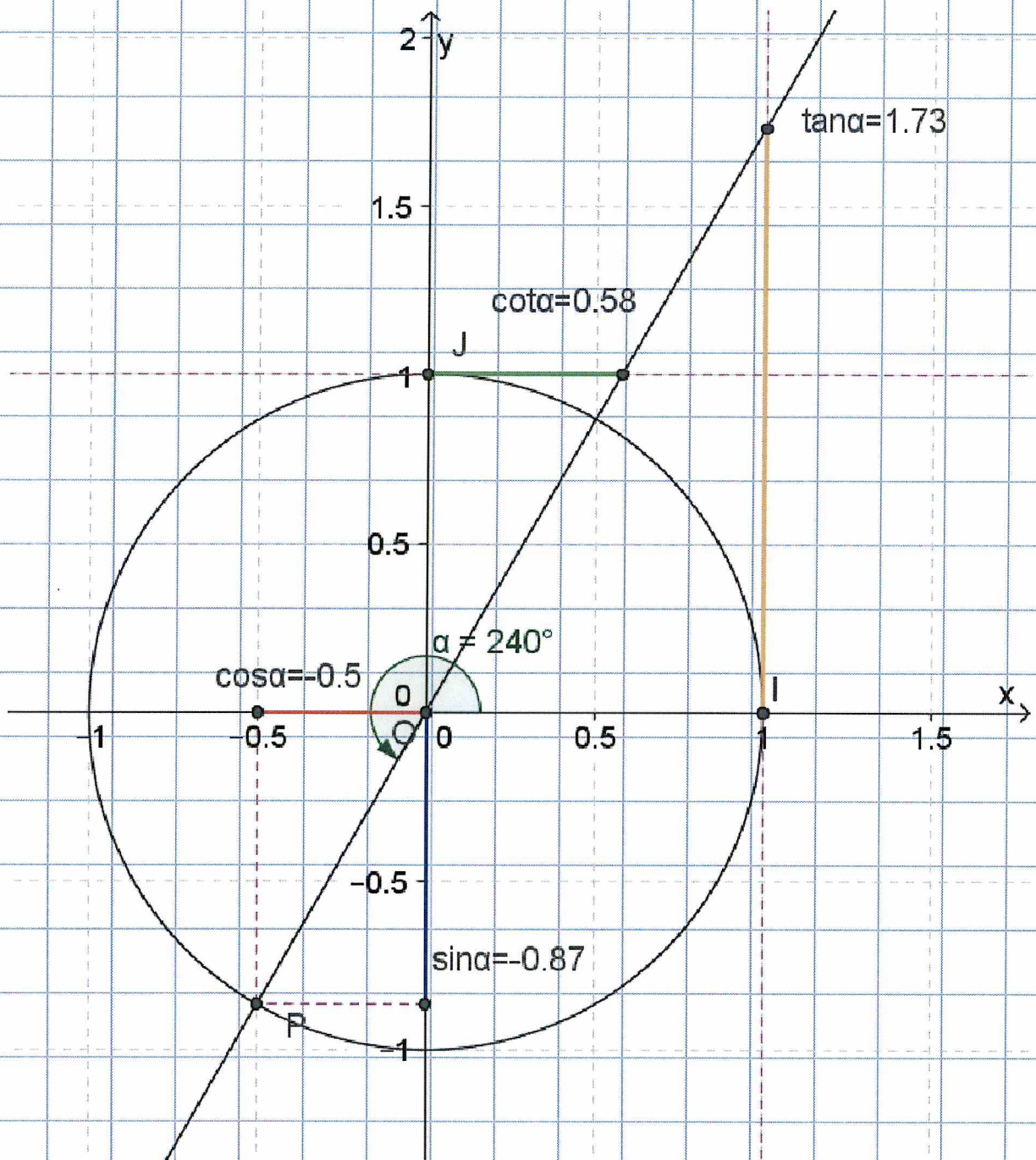


(c)  $305^\circ$

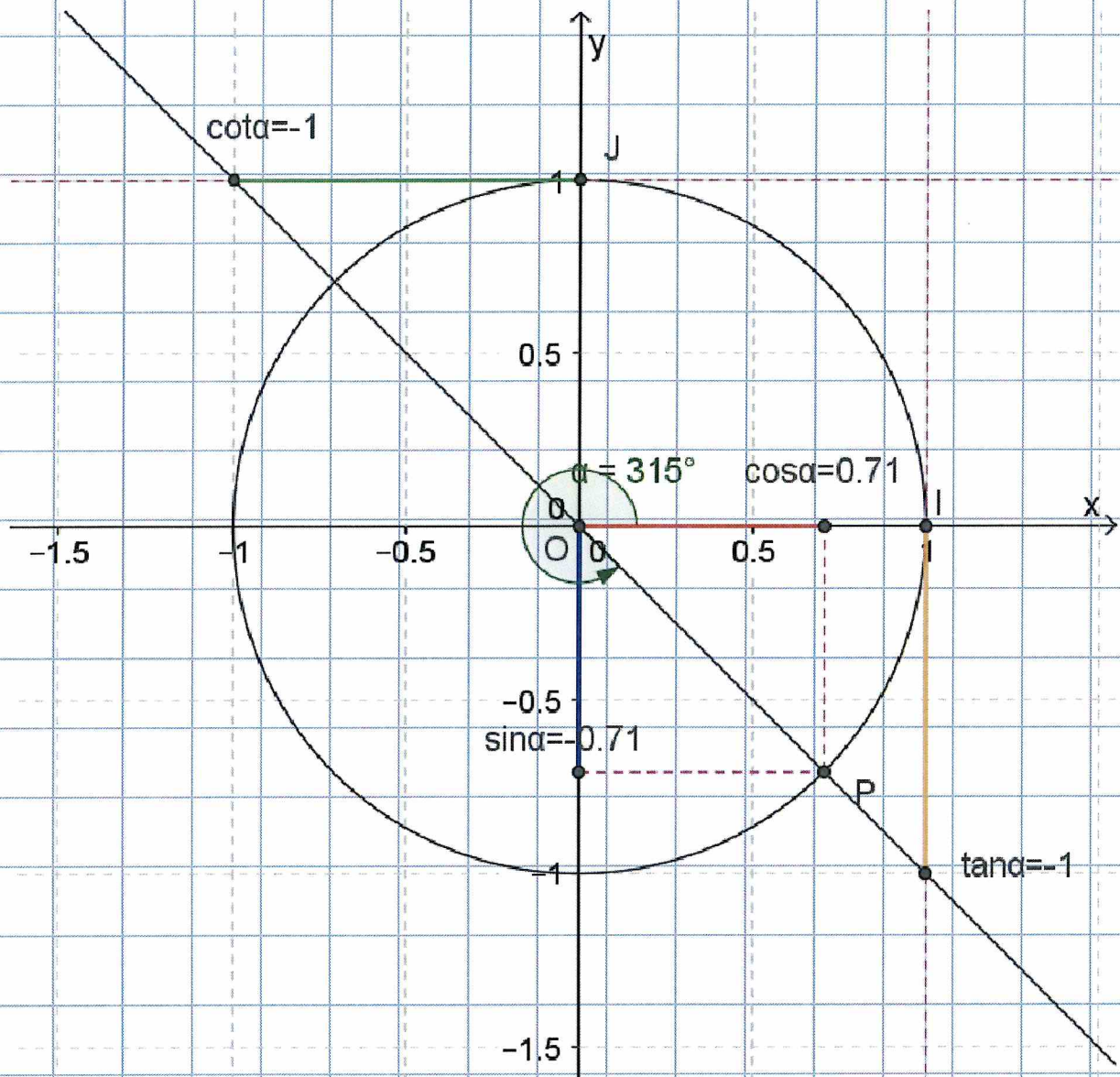




(d)  $\frac{4\pi}{3}$

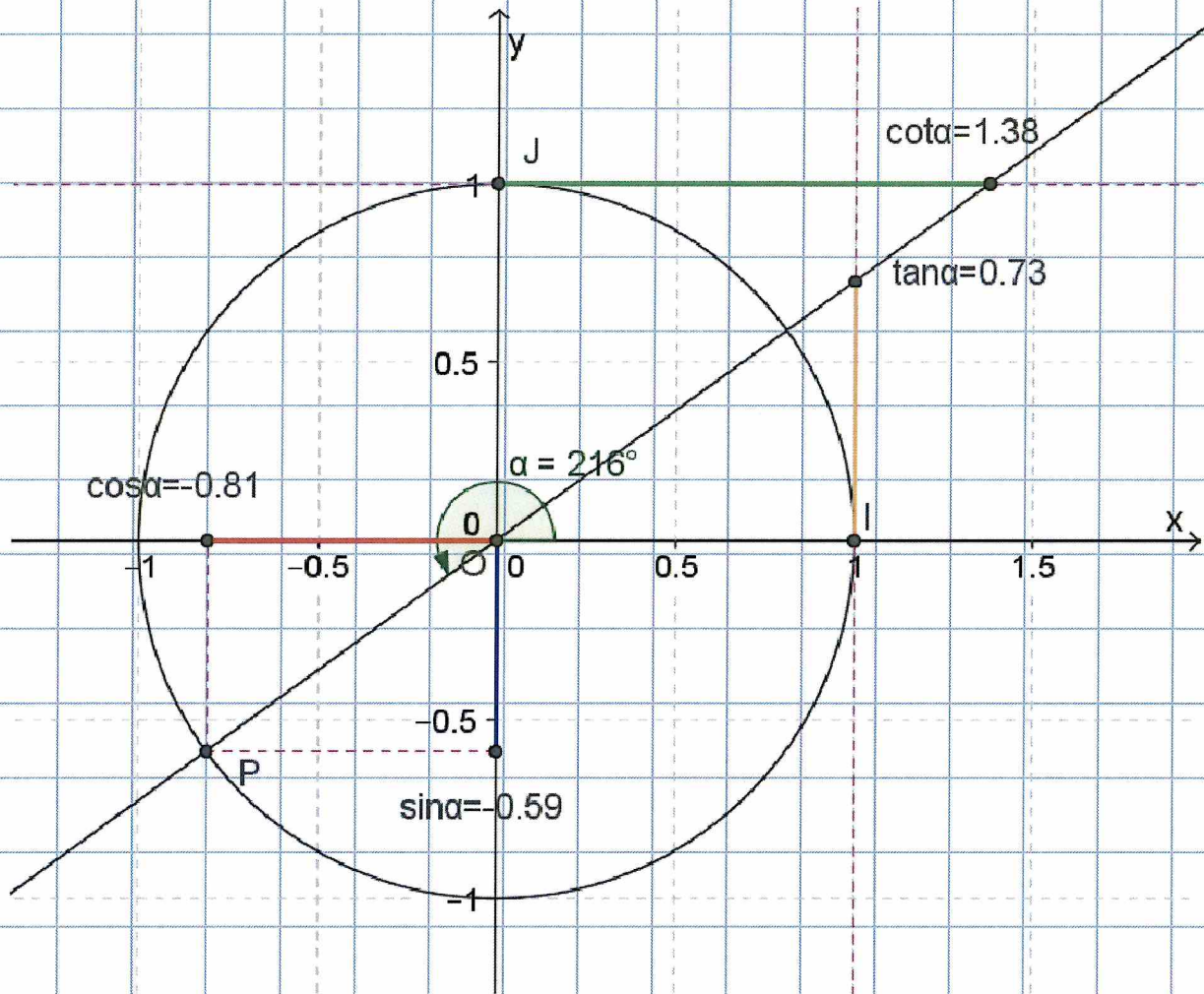


(e)  $\frac{7\pi}{4}$



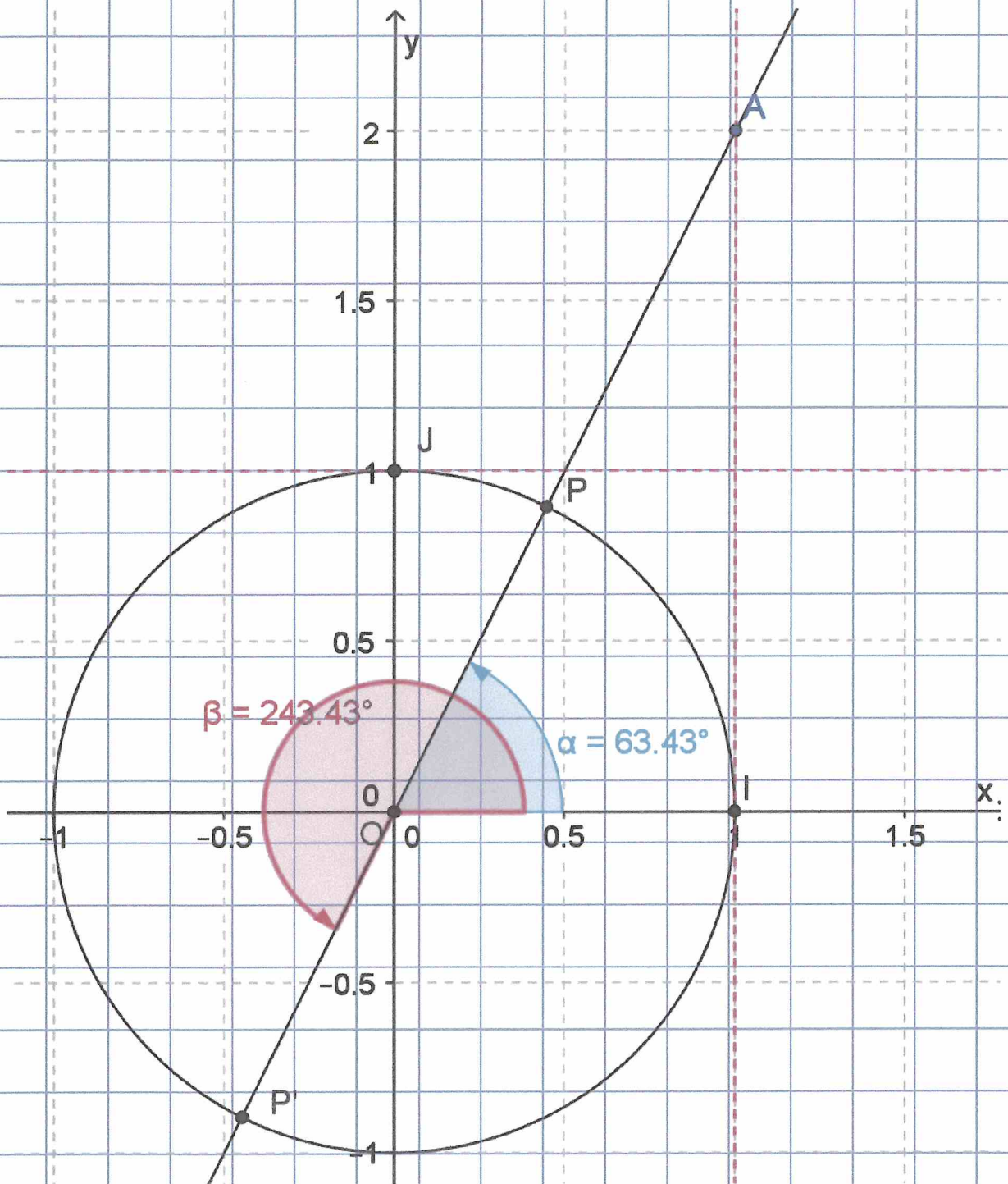


(f)  $-\frac{4\pi}{5}$



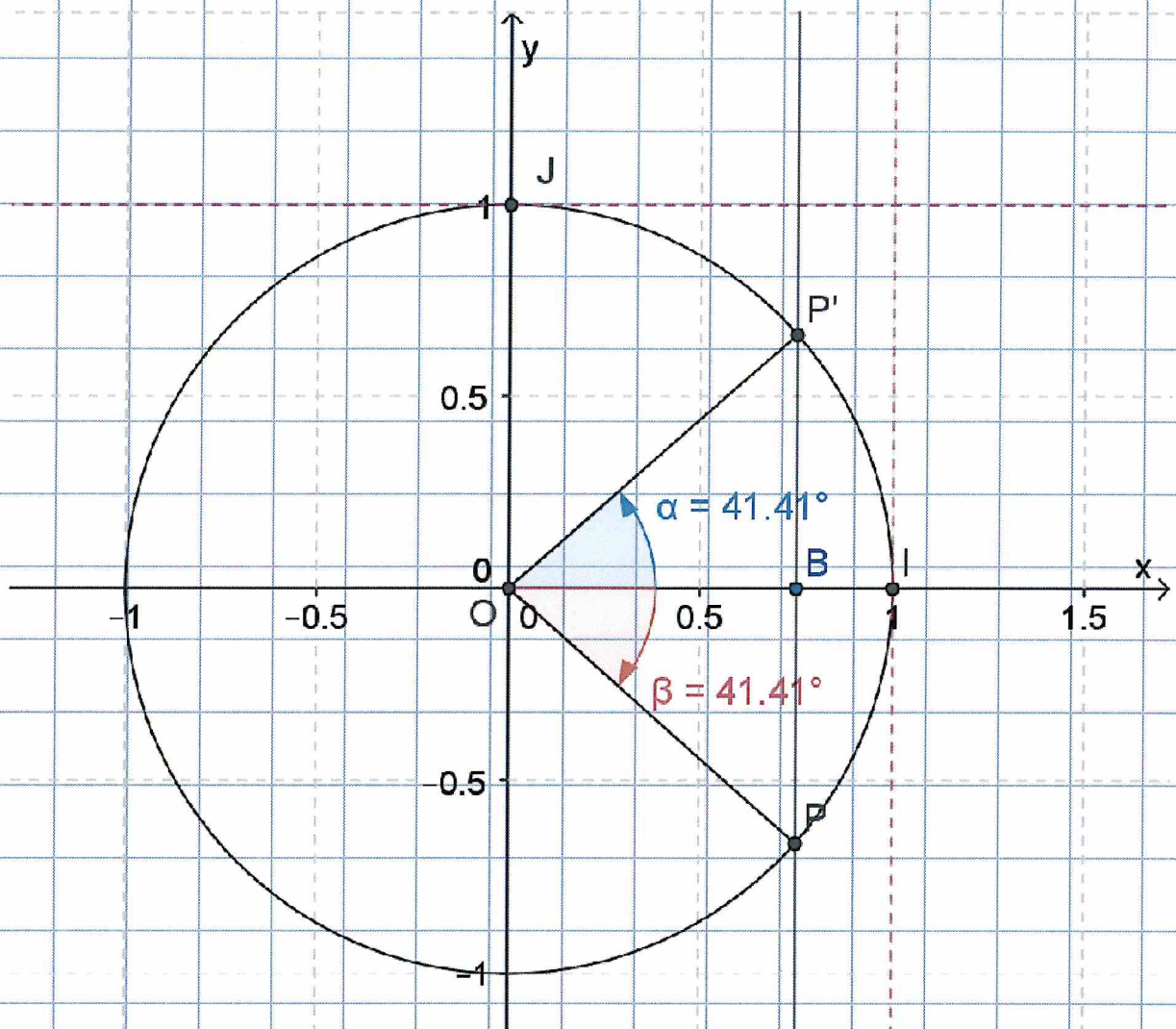
3. Construire un cercle trigonométrique de rayon 5 cm. Déterminer, à l'aide de ce cercle, l'amplitude des angles  $\alpha$  tels que :

(a)  $\tan \alpha = 2$

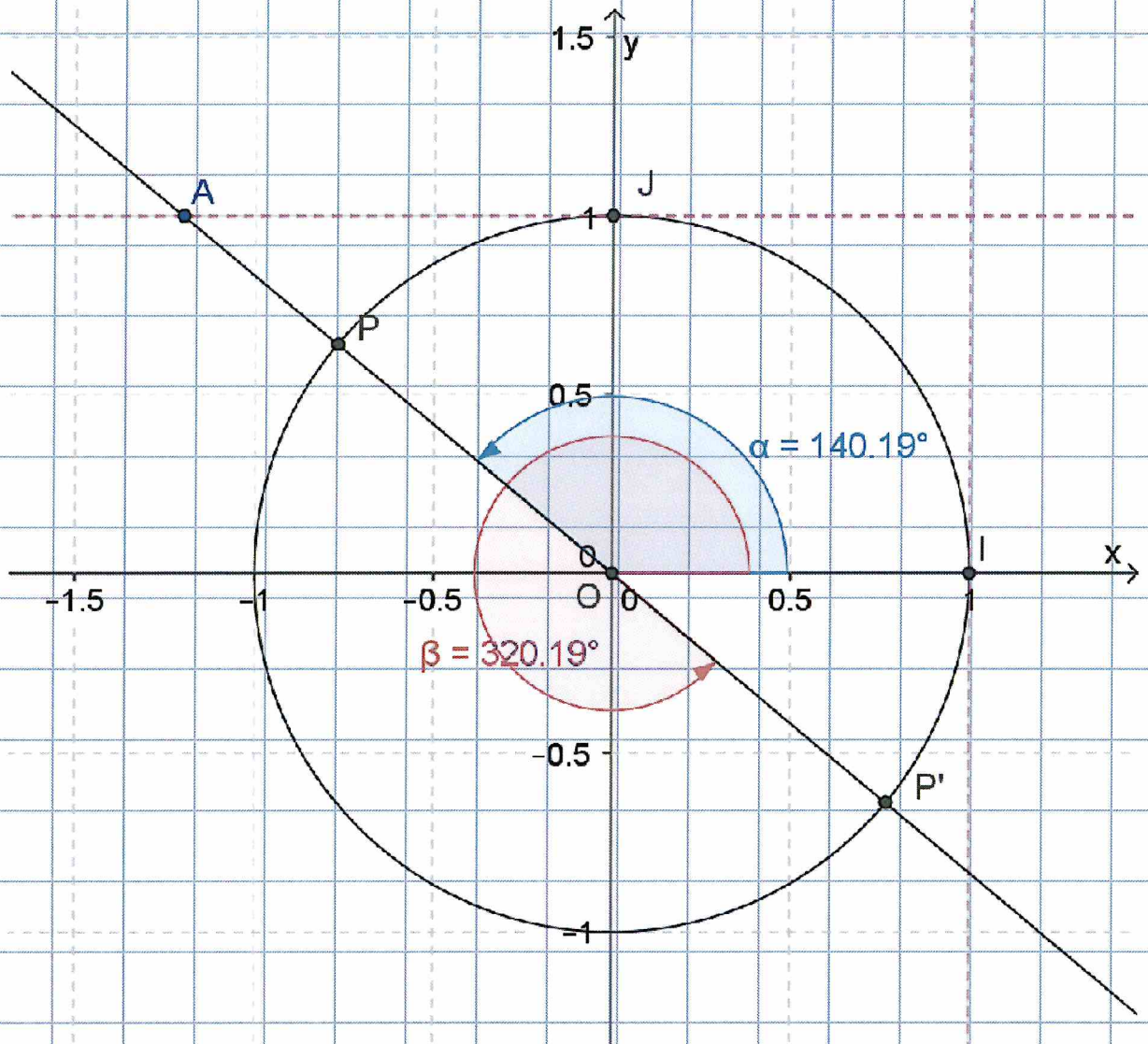




(b)  $\cos \alpha = 0.75$

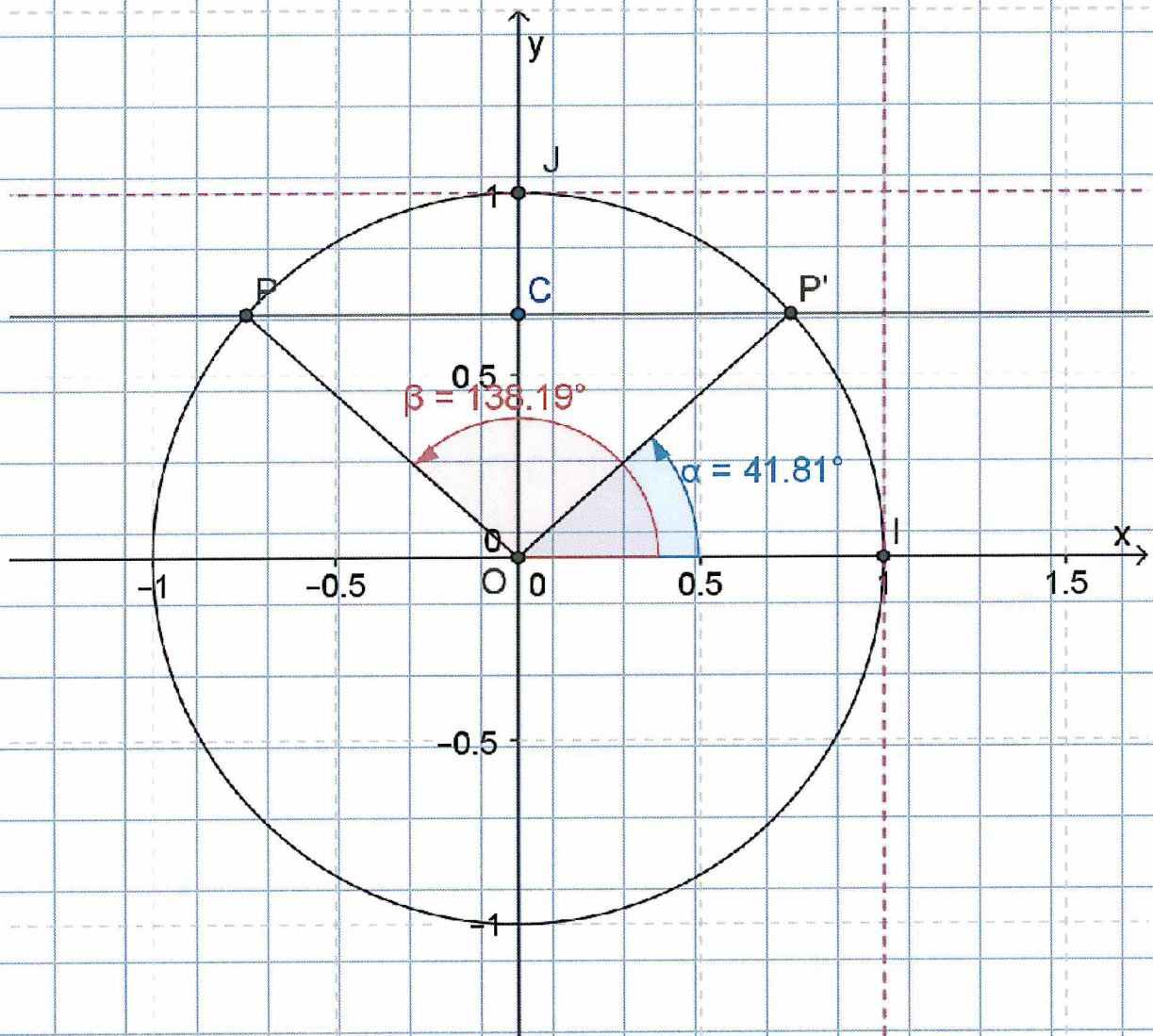


(c)  $\cot \alpha = -\frac{6}{5}$





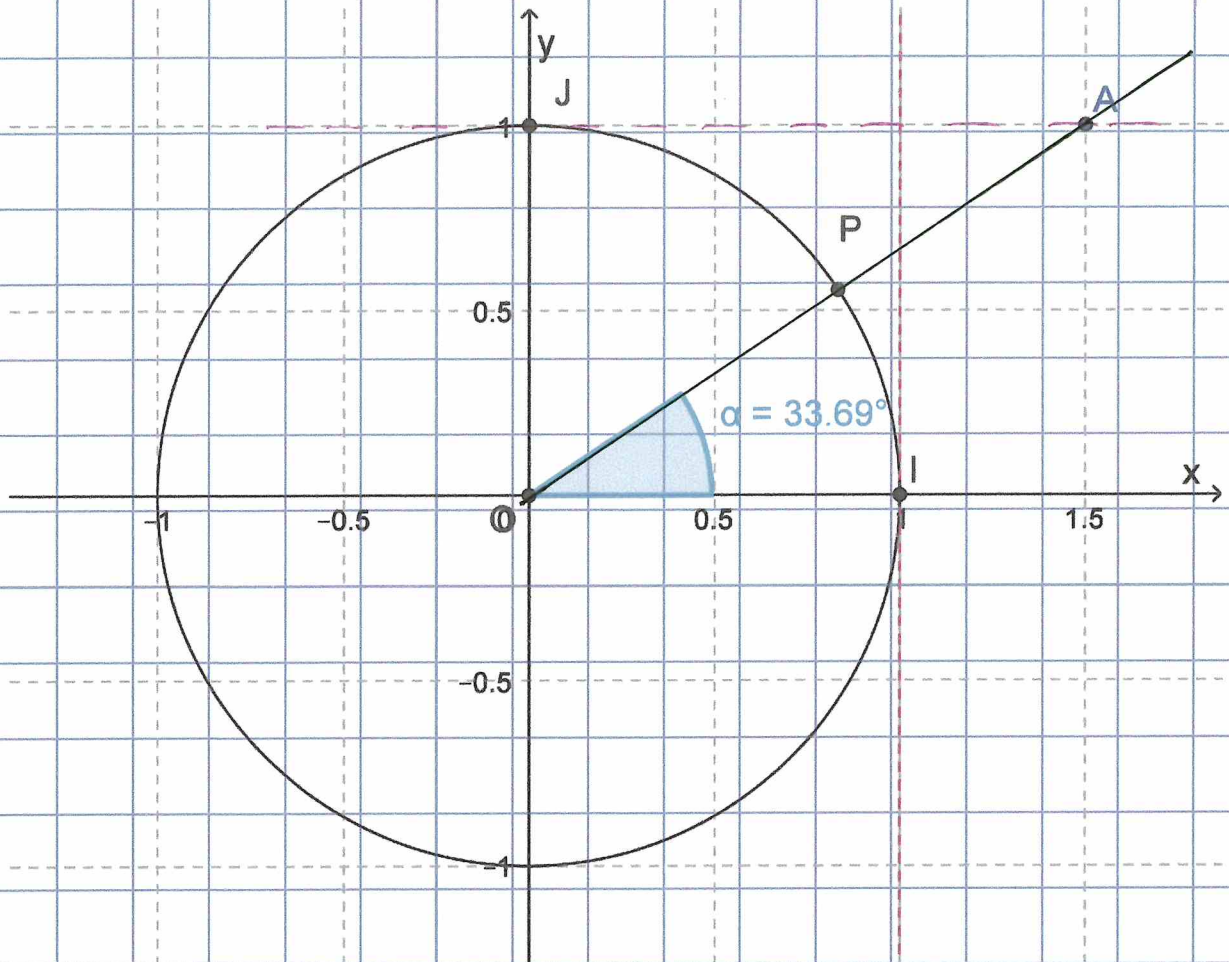
(d)  $\sin \alpha = \frac{2}{3}$







(f) le sinus est positif et dont la cotangente vaut 1,5;



4. Vrai ou faux? Si la réponse est fausse, la corriger. Justifier les réponses à l'aide du cercle trigonométrique.

(a) Si  $90^\circ < \alpha < 180^\circ$  alors  $\sin \alpha$  est positif;

non car  $\alpha \in Q_{II}$

(b) Si  $90^\circ < \alpha < 180^\circ$  alors  $\tan \alpha$  est négatif;

non car  $\alpha \in Q_{II}$

(c) Si  $270^\circ < \alpha < 180^\circ$  alors  $\cos \alpha$  est négatif;

$\hookrightarrow$  ne veut rien dire

si  $180^\circ < \alpha < 270^\circ$ , le  $\cos \alpha$  est négatif

(d) Si  $270^\circ < \alpha < 360^\circ$  alors  $\tan \alpha$  est positif;

Dans  $Q_{IV}$ , la tangente est négative

(e) Si  $\sin \alpha < 0$  et  $\cos \alpha > 0$  alors  $\alpha$  est dans le deuxième quadrant;

Dans  $Q_{II}$  c'est  $\cos \alpha < 0$  et  $\sin \alpha > 0$   
Ici, l'affirmation est vraie dans  $Q_{IV}$



(f) Si  $\sin \alpha < 0$  et  $\tan \alpha > 0$  alors  $\alpha$  est dans le deuxième quadrant;

Non, dans  $Q_{II}$   $\sin \alpha > 0$  et  $\tan \alpha < 0$ .  
C'est dans  $Q_{III}$  que la première partie  
de l'affirmation est vraie

(g) Si  $\cos \alpha = 0,7$  alors  $\alpha$  peut être un angle du quatrième quadrant;

vrai ( $\cos \alpha > 0$  dans  $Q_{IV}$ )

(h) Si  $\sin \alpha = \frac{3}{4}$  alors  $\alpha$  peut être un angle du quatrième quadrant;

Non, dans  $Q_{IV}$   $\sin \alpha < 0 \rightarrow \sin \alpha = -\frac{3}{4}$

(i) Si  $\tan \alpha = -0,7$  alors  $\alpha$  peut être un angle du troisième quadrant.

Non dans  $Q_{III}$ ,  $\tan \alpha > 0 \rightarrow \tan \alpha = 0,7$

5. Antoine a résolu des exercices relatifs à la relation fondamentale de la trigonométrie. Chercher les éventuelles erreurs.

(a)  $x$  est un angle du premier quadrant,  $\cos x = \frac{2}{5}$  et  $\sin x = \frac{3}{5}$ ;

$$\cos^2 x + \sin^2 x = 1$$

$$\Leftrightarrow \frac{4}{25} + \frac{9}{25} \neq 1 \Rightarrow \text{faux}$$

Pour contre dans  $Q_I$ ,  $\cos x$  et  $\sin x$  sont positifs

(b)  $x$  est un angle du deuxième quadrant,  $\cos x = \frac{\sqrt{15}}{4}$  et  $\sin x = \frac{1}{4}$ ;

Dans  $Q_{II}$ ,  $\cos x < 0 \Rightarrow \cos x = -\frac{\sqrt{15}}{4}$

Pour contre  $\cos^2 x + \sin^2 x = 1$

$$\Leftrightarrow \frac{15}{16} + \frac{1}{16} = 1 \quad (\text{OK})$$

(c)  $90^\circ < x < 180^\circ$ ,  $\sin x = \frac{2}{3}$  et  $\cot x = -\frac{\sqrt{5}}{2}$ .

On est dans  $Q_{II}$  et les signes sont justes.

Vérifions de  $\sin^2 x + \cos^2 x = 1$

$$\Leftrightarrow \frac{4}{9} + \frac{5}{4} = 1 \quad \Leftrightarrow \frac{16 + 45}{36} = 1$$

$\Leftrightarrow \frac{61}{36} \neq 1 \rightarrow$  les valeurs sont fausses



6. Déterminer les nombres trigonométriques de  $x$  sachant que :

(a)  $\cos x = \frac{1}{2}$  et  $x \in \left] 0, \frac{\pi}{2} \right[$  ;

•  $\cos^2 x + \sin^2 x = 1$

$\Leftrightarrow \left(\frac{1}{2}\right)^2 + \sin^2 x = 1$

$\Leftrightarrow \frac{1}{4} + \sin^2 x = 1$

$\Leftrightarrow \sin^2 x = 1 - \frac{1}{4}$

$\Leftrightarrow \sin^2 x = \frac{3}{4}$

$\Leftrightarrow \sin x = \pm \sqrt{\frac{3}{4}} \Leftrightarrow \sin x = \pm \frac{\sqrt{3}}{2}$

$\rightarrow \cos x \in \mathbb{Q}_I$

•  $\tan x = \frac{\sin x}{\cos x} = \frac{\frac{\sqrt{3}}{2}}{\frac{1}{2}} = \frac{\sqrt{3}}{2} \cdot \frac{2}{1} = \sqrt{3}$

•  $\cot x = \frac{1}{\tan x} = \frac{1}{\sqrt{3}} = \frac{\sqrt{3}}{\sqrt{3}} = \frac{\sqrt{3}}{3}$

•  $\cos x = \frac{1}{2}$

$\sin x = \frac{\sqrt{3}}{2}$

$\tan x = \sqrt{3}$

$\cot x = \frac{\sqrt{3}}{3}$

$$(b) \sin x = \frac{4}{13} \text{ et } x \in \left] \frac{\pi}{2}, \pi \right[;$$

$$\cos^2 x + \sin^2 x = 1$$

$$\begin{aligned} (\Rightarrow) \cos^2 x &= 1 - \sin^2 x \\ &= 1 - \frac{16}{169} \end{aligned}$$

$$= \frac{153}{169}$$

$$\Leftrightarrow \cos x = \pm \sqrt{\frac{153}{169}} = \pm \frac{3\sqrt{17}}{13}$$

$\rightarrow \cos x \in \mathbb{Q} \cap \mathbb{R}$

$$\begin{aligned} \tan x &= \frac{\sin x}{\cos x} = \frac{\frac{4}{13}}{-\frac{3\sqrt{17}}{13}} = \frac{4}{-3\sqrt{17}} \cdot \frac{\sqrt{17}}{\sqrt{17}} \\ &= -\frac{4\sqrt{17}}{51} \end{aligned}$$

$$\cot x = \frac{1}{\tan x} = -\frac{3\sqrt{17}}{4}$$

$$\sin x = \frac{4}{13}$$

$$\cos x = -\frac{3\sqrt{17}}{13}$$

$$\tan x = -\frac{4\sqrt{17}}{51}$$

$$\cot x = -\frac{3\sqrt{17}}{4}$$



(c)  $\tan x = 2$  et  $x$  est dans le 3<sup>ème</sup> quadrant ;

$$\bullet 1 + \tan^2 x = \frac{1}{\cos^2 x}$$

$$\Leftrightarrow 1 + 4 = \frac{1}{\cos^2 x} \quad \Leftrightarrow \cos^2 x = \frac{1}{5}$$

$$\Leftrightarrow \cos x = \pm \sqrt{\frac{1}{5}} = \pm \frac{1}{\sqrt{5}} \cdot \frac{\sqrt{5}}{5} = -\frac{\sqrt{5}}{5}$$

$\rightarrow \cos x \in \mathbb{Q} \dots$

$$\bullet \cot x = \frac{1}{\tan x} = \frac{1}{2}$$

$$\bullet \tan x = \frac{\sin x}{\cos x} \quad \Leftrightarrow \sin x = \tan x \cdot \cos x$$

$$\Leftrightarrow \sin x = 2 \left( -\frac{\sqrt{5}}{5} \right) \quad \Leftrightarrow \sin x = -\frac{2\sqrt{5}}{5}$$

$$\bullet \sin x = -\frac{2\sqrt{5}}{5}$$

$$\cos x = -\frac{\sqrt{5}}{5}$$

$$\tan x = 2$$

$$\cot x = \frac{1}{2}$$

(d)  $\cot x = -\frac{\sqrt{3}}{3}$  et  $x$  est dans le 2<sup>ème</sup> quadrant;

$$\tan x = \frac{1}{\cot x} = -\frac{3}{\sqrt{3}} = -\sqrt{3}$$

$$1 + \cot^2 x = \frac{1}{\sin^2 x} \Leftrightarrow 1 + \frac{1}{3} = \frac{1}{\sin^2 x}$$

$$\Leftrightarrow \frac{4}{3} = \frac{1}{\sin^2 x} \Leftrightarrow \sin^2 x = \frac{3}{4}$$

$$\Leftrightarrow \sin x = \pm \sqrt{\frac{3}{4}} = \pm \frac{\sqrt{3}}{2}$$

$\rightarrow \cos x \in \mathbb{Q}_I$

$$\cot x = \frac{\cos x}{\sin x} \Leftrightarrow \cos x = \cot x \cdot \sin x$$

$$\Leftrightarrow \cos x = -\frac{\sqrt{3}}{3} \cdot \frac{\sqrt{3}}{2} = -\frac{1}{2}$$

$$\sin x = \frac{\sqrt{3}}{2}$$

$$\cos x = -\frac{1}{2}$$

$$\tan x = -\sqrt{3}$$

$$\cot x = -\frac{\sqrt{3}}{3}$$



(e)  $\cos x = \frac{1}{8}$  et  $x$  est dans le 4<sup>ème</sup> quadrant ;

$$\cdot \cos^2 x + \sin^2 x = 1 \Leftrightarrow \sin^2 x = 1 - \cos^2 x$$

$$\Leftrightarrow \sin^2 x = 1 - \frac{1}{64} \Leftrightarrow \sin^2 x = \frac{63}{64}$$

$$\Leftrightarrow \sin x = \pm \sqrt{\frac{63}{64}} = \pm \frac{3\sqrt{7}}{8}$$

$\rightarrow \cos x \in \text{Q IV}$

$$\cdot \tan x = \frac{\sin x}{\cos x} \Rightarrow \tan x = \frac{-\frac{3\sqrt{7}}{8}}{\frac{1}{8}}$$

$$\Leftrightarrow \tan x = -3\sqrt{7}$$

$$\cdot \cot x = \frac{1}{\tan x} = -\frac{1}{3\sqrt{7}} \cdot \frac{\sqrt{7}}{\sqrt{7}}$$

$$\Leftrightarrow \cot x = -\frac{\sqrt{7}}{21}$$

$$\cdot \sin x = \frac{-3\sqrt{7}}{8}$$

$$\cos x = \frac{1}{8}$$

$$\tan x = -3\sqrt{7}$$

$$\cot x = -\frac{\sqrt{7}}{21}$$

7. Simplifier les relations suivantes :

$$(a) (1 - \cos a)(1 + \cos a)$$

$$= 1 - \cos^2 a$$

(binômes conjugués)

$$= \sin^2 a$$

(identité fondamentale)



$$(b) \frac{\cos \alpha}{1 - \sin \alpha} + \frac{\cos \alpha}{1 + \sin \alpha}$$

$$= \frac{\cos \alpha (1 + \sin \alpha) + \cos \alpha (1 - \sin \alpha)}{(1 - \sin \alpha)(1 + \sin \alpha)} \quad (\text{red in } \textcircled{D})$$

$$= \frac{\cos \alpha + \cancel{\cos \alpha \sin \alpha} + \cos \alpha - \cancel{\cos \alpha \sin \alpha}}{1 - \sin^2 \alpha}$$

(bin. conj)

$$= \frac{2 \cancel{\cos \alpha}}{\cos^2 \alpha}$$

(id. fond.)

$$= \frac{2}{\cos \alpha}$$

$$(c) \cos^2 x (1 + \tan^2 x)$$

$$= \cancel{\cos^2 x} \cdot \frac{1}{\cancel{\cos^2 x}} \quad (2^{\text{e}} \text{ id. fond})$$

$$= 1$$

OU

$$= \cos^2 x \left( 1 + \frac{\sin^2 x}{\cos^2 x} \right) \quad (\text{dép. de } \tan x)$$

$$= \cos^2 x \frac{\cos^2 x + \sin^2 x}{\cos^2 x} \quad (\text{red. à } 0)$$

$$= \cancel{\cos^2 x} \frac{1}{\cancel{\cos^2 x}} \quad (\text{id. fond})$$

$$= 1$$



$$(d) \left( \frac{1}{\tan \varphi} + \frac{1}{\cot \varphi} \right) \sin \varphi \cos \varphi$$

$$= \left( \frac{1}{\frac{\sin \varphi}{\cos \varphi}} + \frac{1}{\frac{\cos \varphi}{\sin \varphi}} \right) \sin \varphi \cos \varphi \quad (\text{def. de } \tan \varphi \text{ et } \cot \varphi)$$

$$= \left( \frac{\cos \varphi}{\sin \varphi} + \frac{\sin \varphi}{\cos \varphi} \right) \sin \varphi \cos \varphi \quad (\text{règle des frac.})$$

$$= \frac{\cos^2 \varphi + \sin^2 \varphi}{\sin \varphi \cos \varphi} \sin \varphi \cos \varphi \quad (\text{rédu. m. D})$$

$$= \frac{1}{\cancel{\sin \varphi \cos \varphi}} \cdot \cancel{\sin \varphi \cos \varphi} \quad (\text{id. fond.})$$

$$= 1$$

$$(e) (1 + \cot^2 a)(1 - \cos^2 a)$$

$$= \frac{1}{\cancel{\sin^2 a}} \cdot \cancel{\sin^2 a}$$

(3<sup>e</sup> et 1<sup>er</sup> id. fond.)

$$= 1$$

OU

$$= \left( 1 + \frac{\cos^2 a}{\sin^2 a} \right) (1 - \cos^2 a)$$

(déf. de  $\cot a$ )

$$= \frac{\sin^2 a + \cos^2 a}{\sin^2 a} (1 - \cos^2 a)$$

(réf. n. D)

$$= \frac{1}{\sin^2 a} (1 - \cos^2 a)$$

(id. fond.)

$$= \frac{1}{\cancel{\sin^2 a}} \cdot \cancel{\sin^2 a}$$

(id. fond.)

$$= 1$$



$$(f) (\sin a + \cos a)^2 + (\sin a - \cos a)^2$$

$$= \sin^2 a + 2 \sin a \cos a + \cos^2 a$$

$$+ \sin^2 a - 2 \sin a \cos a + \cos^2 a$$

(pts unmg.)

$$= 2 \sin^2 a + 2 \cos^2 a$$

$$= 2 (\sin^2 a + \cos^2 a)$$

(mise en  
évidence de 2.)

$$= 2$$

(id. fond.)

$$(9) \sin^6 a + 3 \sin^2 a \cos^2 a + \cos^6 a$$

$$= (\sin^6 a + \cos^6 a) + 3 \sin^2 a \cos^2 a$$

$$= (\sin^2 a + \cos^2 a) (\sin^4 a - \sin^2 a \cos^2 a + \cos^4 a) + 3 \sin^2 a \cos^2 a$$

$$\left[ \begin{array}{l} \text{(pdt. rule, } 3^{\text{rd}} \text{ d.o.)} \\ (a^3 + b^3) \end{array} \right]$$

$$= \sin^4 a - \sin^2 a \cos^2 a + \cos^4 a + 3 \sin^2 a \cos^2 a$$

$$= \sin^4 a + 2 \sin^2 a \cos^2 a + \cos^4 a$$

$$= (\sin^2 a + \cos^2 a)^2$$

$$\text{(pdt. rule)}$$

$$= 1$$

$$\text{(id. found)}$$



$$\textcircled{B} 3(\sin^4 a + \cos^4 a) - 2(\sin^6 a + \cos^6 a)$$

$$= 3 \sin^4 a + 3 \cos^4 a - 2(\sin^2 a + \cos^2 a)(\sin^4 a - \sin^2 a \cos^2 a + \cos^4 a)$$

[(pdk ring 3<sup>o</sup> d<sup>o</sup> + id. fond)]

$$= 3 \sin^4 a + 3 \cos^4 a - 2 \sin^4 a + 2 \sin^2 a \cos^2 a - 2 \cos^4 a$$

$$= \sin^4 a + 2 \sin^2 a \cos^2 a + \cos^4 a$$

$$= (\sin^2 a + \cos^2 a)^2$$

(pdk ring.)

$$= 1$$

(id. fond.)

8. Si  $x = a \cos u - b \sin u$  et  $y = a \sin u + b \cos u$ , calculer  $E = x^2 + y^2$

$$\begin{aligned} E &= (a \cos u - b \sin u)^2 + (a \sin u + b \cos u)^2 \\ &= a^2 \cos^2 u + b^2 \sin^2 u - 2ab \sin u \cos u \dots \\ &\quad + a^2 \sin^2 u + b^2 \cos^2 u + 2ab \sin u \cos u \\ &= (a^2 \cos^2 u + a^2 \sin^2 u) + (b^2 \sin^2 u + b^2 \cos^2 u) \\ &= a^2 (\underbrace{\cos^2 u + \sin^2 u}_1) + b^2 (\underbrace{\sin^2 u + \cos^2 u}_1) \\ &= a^2 + b^2 \end{aligned}$$



9) Si  $x = a \cos u$ ,  $y = a \sin u \cos v$  et  $z = a \sin u \sin v$ , montrer que  $E = x^2 + y^2 + z^2$  est indépendante de  $u$  et  $v$

$$\begin{aligned} E &= a^2 \cos^2 u + a^2 \sin^2 u \cos^2 v + a^2 \sin^2 u \sin^2 v \\ &= a^2 \cos^2 u + a^2 \sin^2 u (\underbrace{\cos^2 v + \sin^2 v}_1) \\ &= a^2 (\underbrace{\cos^2 u + \sin^2 u}_1) \\ &= a^2 \end{aligned}$$

10. Etablir les identités trigonométriques suivantes

$$(a) \sin^4 a - \cos^4 a = \sin^2 a - \cos^2 a$$

$$\begin{aligned} I &= \sin^4 a - \cos^4 a \\ &= (\sin^2 a - \cos^2 a) \underbrace{(\sin^2 a + \cos^2 a)}_1 \quad \text{fact.} \\ &= \sin^2 a - \cos^2 a \\ &= \underline{\underline{II}} \end{aligned}$$



$$(b) \tan^2 a - \tan^2 b = \frac{1}{\cos^2 a} - \frac{1}{\cos^2 b}$$

$$I = \tan^2 a - \tan^2 b$$
$$= \left( \frac{1}{\cos^2 a} - 1 \right) - \left( \frac{1}{\cos^2 b} - 1 \right)$$

id. form 2

$$= \frac{1}{\cos^2 a} - \cancel{1} - \frac{1}{\cos^2 b} + \cancel{1}$$

$$= \frac{1}{\cos^2 a} - \frac{1}{\cos^2 b}$$

$$= II$$

$$(c) \frac{\cos a}{1 - \tan a} + \frac{\sin a}{1 - \cot a} = \sin a + \cos a$$

$$I = \frac{\cos a}{1 - \frac{\sin a}{\cos a}} + \frac{\sin a}{1 - \frac{\cos a}{\sin a}}$$

def de tan a et cot a

$$= \frac{\cos a}{\frac{\cos a - \sin a}{\cos a}} + \frac{\sin a}{\frac{\sin a - \cos a}{\sin a}}$$

réel in D

$$= \frac{\cos^2 a}{\cos a - \sin a} + \frac{\sin^2 a}{-\sin a + \cos a}$$

div. de fractions

changeret de signe

de  $D_2$

$$= \frac{\cos^2 a - \sin^2 a}{\cos a - \sin a}$$

$$= \frac{(\cancel{\cos a - \sin a})(\cos a + \sin a)}{\cancel{\cos a - \sin a}}$$

fact.

$$= \cos a + \sin a$$

$$= \underline{\underline{II}}$$



$$(d) \frac{\tan a}{\tan b} = \frac{\tan a + \cot b}{\tan b + \cot a}$$

$$II = \frac{\tan a + \frac{1}{\tan b}}{\tan b + \frac{1}{\tan a}}$$

def. de cot

$$= \frac{\tan a \tan b + 1}{\tan b}$$

red. au m. D

$$= \frac{\tan a \tan b + 1}{\tan a}$$

$$= \frac{\cancel{\tan a \tan b} + 1}{\tan b} \cdot \frac{\tan a}{\cancel{\tan a \tan b} + 1}$$

div. de fractions

$$= \frac{\tan a}{\tan b}$$

$$= I$$

$$(e) \frac{\sin^2 a + \sin a \cos a + \cos^2 a}{\cos^2 a} = 1 + \tan a + \tan^2 a$$

$$I = \frac{\sin^2 a + \sin a \cos a + \cos^2 a}{\cos^2 a}$$

$$= \frac{\sin^2 a}{\cos^2 a} + \frac{\sin a \cancel{\cos a}}{\cos^{\cancel{2}} a} + \frac{\cancel{\cos^2 a}}{\cancel{\cos^2 a}}$$

$$= \tan^2 a + \tan a + 1$$

$$= \underline{\underline{II}}$$

pple! de  
fraction  
def de tan a



$$(f) \frac{\sin^3 a + \cos^3 a}{\sin a + \cos a} + \frac{\sin^3 a - \cos^3 a}{\sin a - \cos a} = 2$$

$$I = \frac{(\cancel{\sin a + \cos a}) (\sin^2 a - \sin a \cos a + \cos^2 a)}{\cancel{\sin a + \cos a}} + \dots$$

$$\dots \frac{(\cancel{\sin a - \cos a}) (\sin^2 a + \sin a \cos a + \cos^2 a)}{\cancel{\sin a - \cos a}}$$

pdt ring 3<sup>rd</sup> degree

$$= 1 - \cancel{\sin a \cos a} + 1 + \cancel{\sin a \cos a}$$

simpl  
+ id font.

$$= 2$$

$$= \underline{II}$$

$$(g) \frac{\sin^2 a - \cos^2 b}{\sin^2 a \sin^2 b} = 1 - \cot^2 a \cot^2 b$$

$$II = 1 - \frac{\cos^2 a}{\sin^2 a} \frac{\cos^2 b}{\sin^2 b}$$

déf de cot.

$$= \frac{\sin^2 a \sin^2 b - \cos^2 a \cos^2 b}{\sin^2 a \sin^2 b}$$

val en  $\mathbb{D}$

$$= \frac{\sin^2 a (1 - \cos^2 b) - (1 - \sin^2 a) \cos^2 b}{\sin^2 a \sin^2 b}$$

id. fond 1

$$= \frac{\sin^2 a - \cancel{\sin^2 a \cos^2 b} - \cos^2 b + \cancel{\sin^2 a \cos^2 b}}{\sin^2 a \sin^2 b}$$

$$= \frac{\sin^2 a - \cos^2 b}{\sin^2 a \sin^2 b}$$

$$= I$$